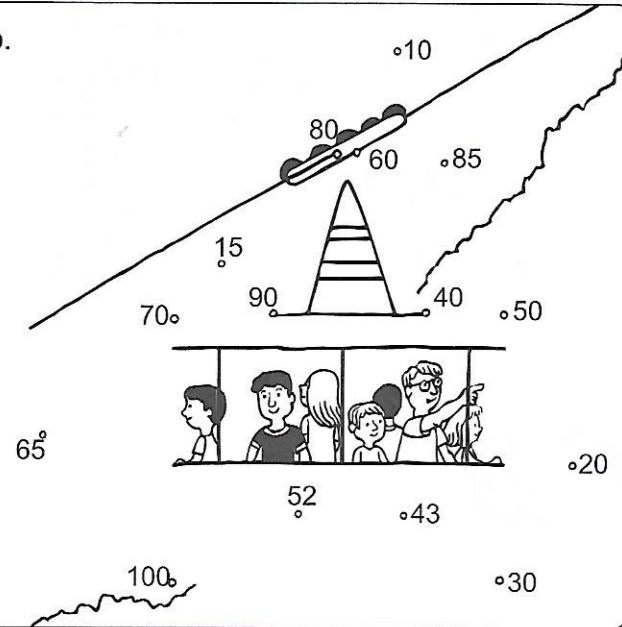


Seštej. Rezultate po vrsti poveži s črto. Dobil boš sliko.

1. $54 + 6 =$ <input type="text"/>	5. $95 + 5 =$ <input type="text"/>
2. $33 + 7 =$ <input type="text"/>	6. $68 + 2 =$ <input type="text"/>
3. $41 + 9 =$ <input type="text"/>	7. $89 + 1 =$ <input type="text"/>
4. $24 + 6 =$ <input type="text"/>	8. $72 + 8 =$ <input type="text"/>



Izračunaj in rezultatom poišči črke v legendi. Katere besede si dobil?

$36 + 3 =$	39	Ž
$41 + 5 =$	<input type="text"/>	<input type="text"/>
$27 + 2 =$	<input type="text"/>	<input type="text"/>
$72 + 7 =$	<input type="text"/>	<input type="text"/>
$53 + 4 =$	<input type="text"/>	<input type="text"/>



$30 +$	<input type="text"/>	$= 37$	<input type="text"/>
$60 +$	<input type="text"/>	$= 61$	<input type="text"/>
$50 +$	<input type="text"/>	$= 59$	<input type="text"/>
$90 +$	<input type="text"/>	$= 95$	<input type="text"/>
$40 +$	<input type="text"/>	$= 44$	<input type="text"/>

$4 +$	<input type="text"/>	$= 50$	<input type="text"/>
$89 +$	<input type="text"/>	$= 90$	<input type="text"/>
$41 +$	<input type="text"/>	$= 50$	<input type="text"/>
$75 +$	<input type="text"/>	$= 80$	<input type="text"/>
$1 +$	<input type="text"/>	$= 80$	<input type="text"/>



$22 + 8 =$	<input type="text"/>	<input type="text"/>
$36 + 4 =$	<input type="text"/>	<input type="text"/>
<input type="text"/>	$+ 2 = 48$	<input type="text"/>
$45 +$	<input type="text"/>	$= 50$
$87 + 3 =$	<input type="text"/>	<input type="text"/>
<input type="text"/>	$+ 3 = 60$	<input type="text"/>



LEGENDA :

1	4	5	7	9	29	30	39	40	46	57	79	90
O	V	E	P	N	I	S	Ž	K	L	A	C	D

Reši naloge in po vrsti poveži rezultate.

1.

Na drevesu je bilo 20 ptic.
Priletele so še 4 ptice.
Koliko je vseh ptic na
drevesu?

R.:

O.: Na drevesu je ptic.

2.


V škatli je bilo 60 gumbov.
Mama je kupila še nekaj
gumbov. Sedaj jih je v škatli 68.
Koliko gumbov je kupila mama?

R.:

O.: Mama je kupila gumbov.


3.

Imam 24  .

Matej mi da še 6  .

Koliko  imam?


R.:

O.: Imam  .

4.

Na parkirišču je bilo

34  .

Pripeljalo je še nekaj  .
Sedaj jih je 39.

Koliko  je še pripeljalo?

R.:

O.: Pripeljalo je  .

$28 - 8 = \underline{\quad}$

$55 - 5 = \underline{\quad}$


$86 - 6 = \underline{\quad}$

$59 - 9 = \underline{\quad}$

$71 - 1 = \underline{\quad}$

$47 - 7 = \underline{\quad}$

$64 - 4 = \underline{\quad}$



Izračunaj. Znake poleg računov preriši v prava polja. Preberi, kaj pomenijo.

8

IGRAJTE.

50

NE LOMI VEJ.

3

TUKAJ NI STEKLENIC.

60

VESELI SMO.

20

TUKAJ VSI DELAMO.

40

NE POLIVAJ BENCINA.

9

POZOR, ŽIVALI.

70

POČITEK.

5

MALICA.

2

PAZITE NA OGENJ.

30

POBERI SUHE VEJE.

7

ODRASLI, POMAGAJTE.

$37 - 7 = \square$



$73 - 3 = \square$



$47 - \square = 40$



$64 - 4 = \square$



$46 - 6 = \square$



$92 - \square = 90$



$55 - 5 = \square$



$68 - \square = 60$



$75 - \square = 70$



$28 - 8 = \square$



$33 - \square = 30$



$29 - \square = 20$



$46 - 4 = \underline{\quad}$

$38 - 2 = \underline{\quad}$

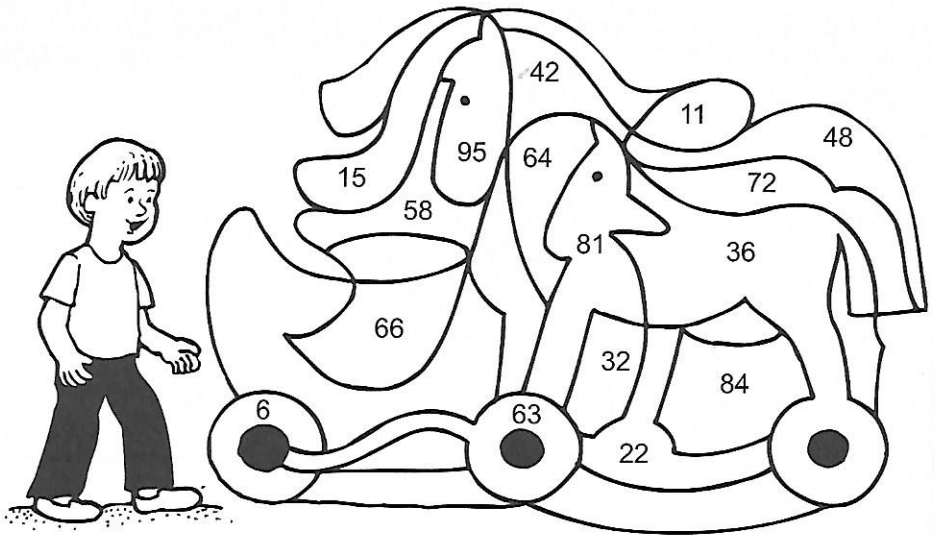
$75 - 3 = \underline{\quad}$

$99 - 4 = \underline{\quad}$

$67 - 3 = \underline{\quad}$

$66 - 3 = \underline{\quad}$

$88 - 7 = \underline{\quad}$



Odštej. Pobarvaj okenca s pravilnimi rezultati.

$47 - 5 = \square$

$22 - 1 = \square$

$88 - 4 = \square$

$56 - 3 = \square$

$97 - 2 = \square$

$66 - 1 = \square$

$57 - 0 = \square$

$28 - 3 = \square$

$35 - 2 = \square$

$48 - 7 = \square$

$56 - 4 = \square$

$98 - 5 = \square$

$55 - 2 = \square$

$99 - 5 = \square$

$74 - 1 = \square$

$99 - 0 = \square$

$56 - 3 = \square$

$87 - 4 = \square$

$87 - 3 = \square$


$44 - 2 = \square$

$29 - 2 = \square$

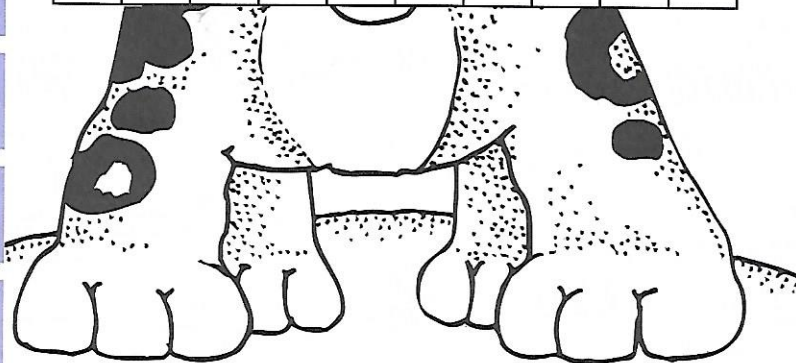
$67 - 6 = \square$

$33 - 1 = \square$

$88 - 0 = \square$



95	53	65	20	94	29	84	37	75	41
88	39	51	70	32	60	42	43	21	58
33	99	73	66	57	74	52	53	45	62
27	82	49	49	83	22	53	77	61	64
25	69	96	55	93	68	84	50	78	42



Psu je ime