

Dragi učenci

Pred nami je 8. teden. Pri geografiji boste ocenjeni, ko se vrnemo v šolo. Predvidoma boste pisali neme karte Alpskih, Predalpskih, Obsredozemskih in Obpanonskih pokrajin. Kako bo samo ocenjevanje potekalo, se dogovorimo v šoli. V tem tednu boste rešili nemo karto Alpskih in Predalpskih pokrajin in ponovili vsebine s kvizom: <https://quizizz.com/join/quiz/5eb18288f77006001bbedffc/start?studentShare=true>


Lahko rešiš spodnjo nemo karto ali pa na interaktivnem učnem listu:


<https://www.liveworksheets.com/nj397911sq>

Interaktivni učni list rešuješ tako, da v kvadratke zraven črk napišeš ime pokrajine, ki je označena (pazi na pravilni zapis!). Na karti pa izpolniš samo tiste kvadratke, ki jih naloga zahteva.

Ko izpolnite karto, pritisnite **finish**. Ponudi vam naslednjo možnost:

What do you want to do?

 **Check my answers**

 **Email my answers to my teacher**

Enter your full name:

Ime in priimek

Level/group:

School subject:

Enter your teacher's email or key code:

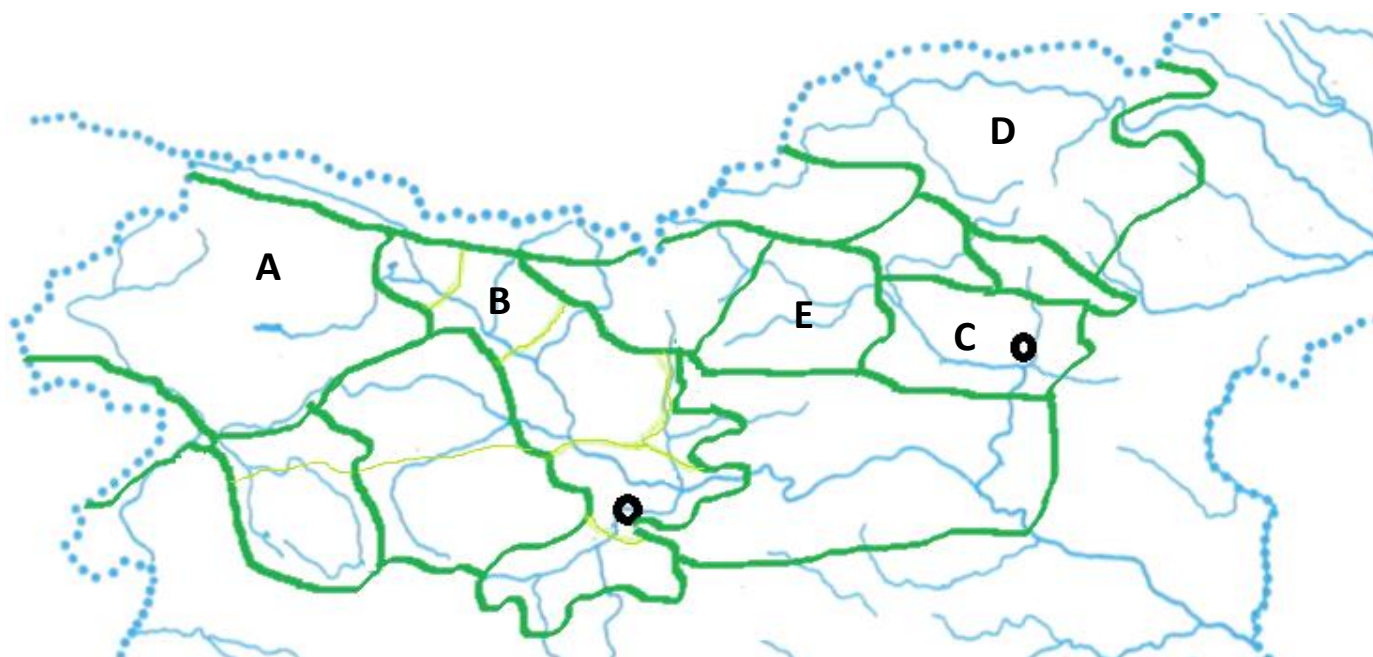
Pritisnite na gumb: **Email my answers to my teacher** in izpolnite podatke, ter vpišite elektronski naslov **svoje** učiteljice.

Nemo karto rešite do **petka, 15. 5. 2020**.

Ostanite zdravi in lep teden.

Učiteljici Magda in Simona

NEMA KARTA ALPSKIH IN PREDALPSKIH POKRAJIN



A _____

B _____

C _____

D _____

E _____

S številko 1 označi Škofjeloško hribovje.

S številko 2 označi Ljubljansko barje.

S številko 3 označi Velenjsko kotlino.

S številko 4 označi hribovje, katerega najvišji vrh je Kum.

S številko 5 označi gorovje z najvišjim vrhom Stol.