

- Učenci, lepo pozdravljeni v novem, 9. tednu učenja na daljavo.
- Glede na to, da v naslednjem tednu, v petek, 29. maja, poteka ocenjevanje iz GEO, je vaša naloga, da ponavljate in utrjujete delo s karto.
- **Da ne pozabite**: učenci 8. a pišete NK S in J Amerike ter Avstralije, učenci 8. b pa NK J Amerike in Avstralije (zakaj je temu tako, ste bili že seznanjeni).
- V tem tednu boste spoznali zanimivo otoško državo v Tihem oceanu.
- V priponki ste prejeli NK te države. Rešeno NK pošljite do petka, 22. 5. 2020.
- V pomoč vam bo učbenik, PP in karta v atlasu na str. 156 in 159.
- Na naslednji prosojnici je naslov, ki ga zapišete v zvezek in sledite navodilom.
- Rdeče napisanega besedila ni potrebno prepisati v zvezek.

NOVA ZELANDIJA

- Gotovo poznate novozelandsko zastavo.
- Zakaj je britanska zastava v zgornjem levem kotu?
- Na zastavo katere države vas spominja?
- Kaj imata zastavi teh dveh držav še skupnega in v čem se razlikujeta?
- Za uvod si oglejte video o Novi Zelandiji, da boste lažje osvojili in razumeli učne vsebine.



Povezava: <https://vimeo.com/58858949>

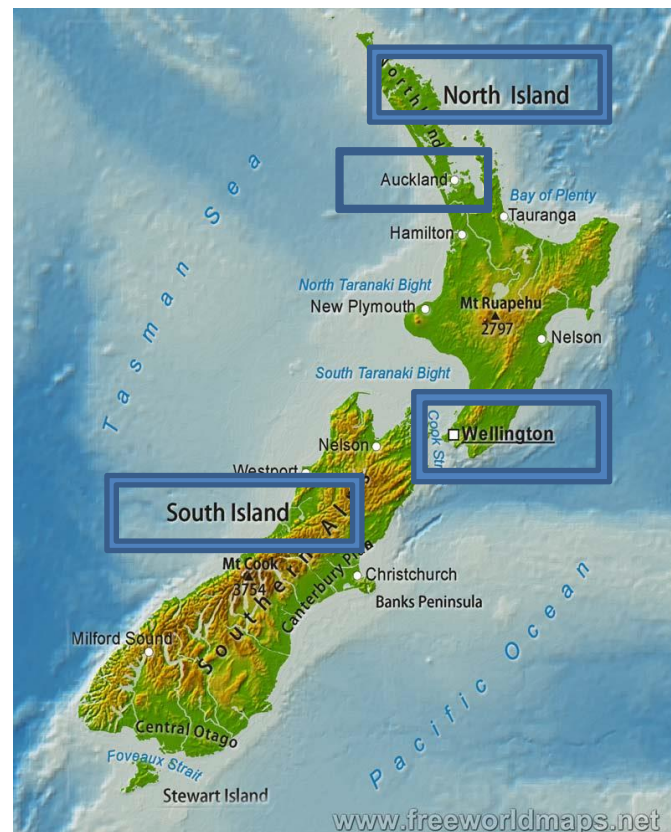
1. Geografska lega.

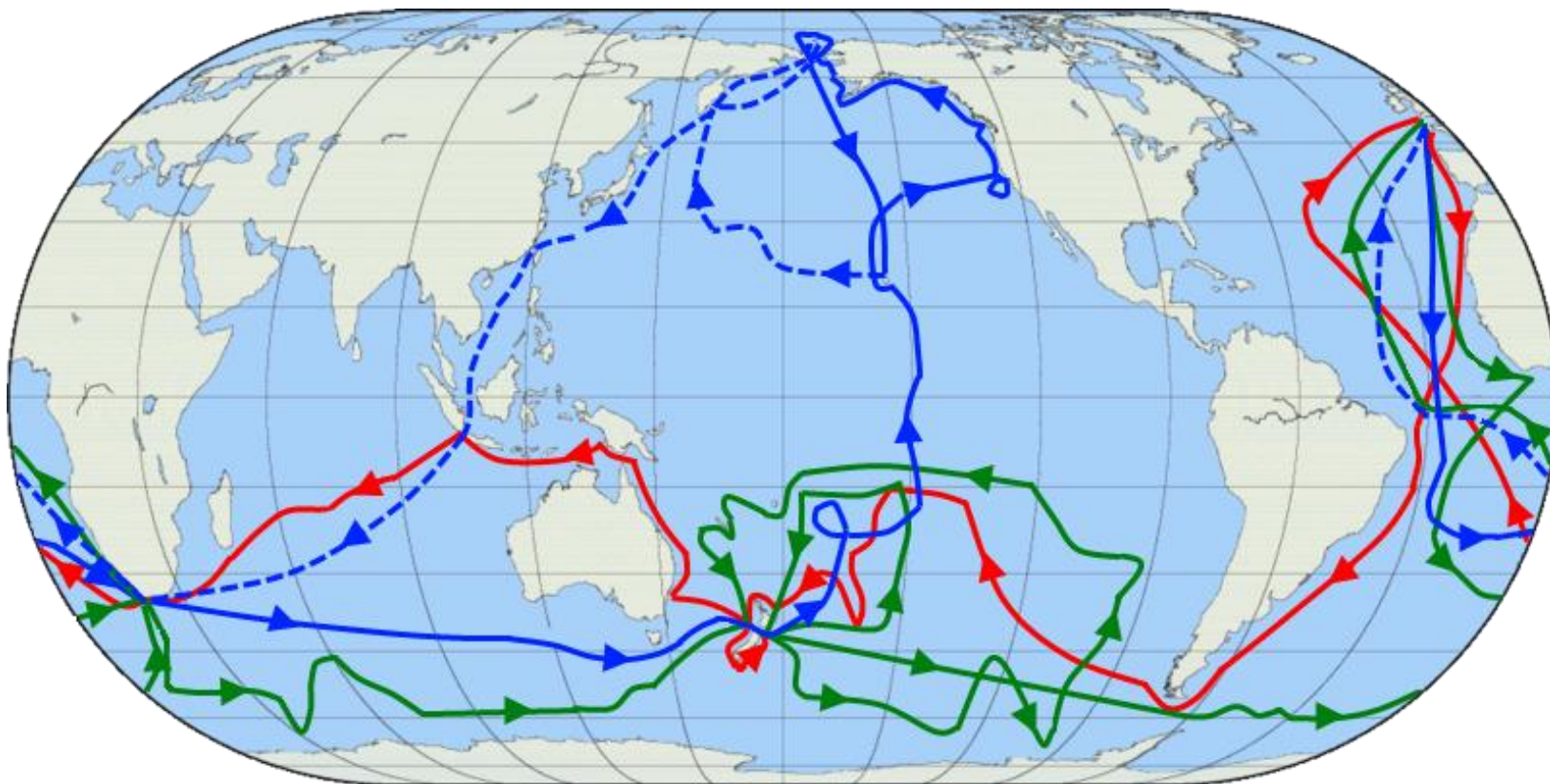
- Določite geografsko lego s pomočjo karte v atlasu na str. 156/157.
- Na katerih poloblah leži?
- Kako to veste? Utemeljite.
- Katera oceana obdajata otok?
- Katero morje povezuje otoško državo z Avstralijo?
- Kaj poteka vzhodno od nje, po 180 poldnevniku?
- Kateri dan je Z od 180 poldnevnik in kateri V od njega?



2. Sestavljata jo dva otoka: Severni in Južni otok.

- Katero je glavno mesto?
- Katero mesto je največje?
- Kaj ločuje otoka?
- Preliv ima ime po angleškemu raziskovalcu z imenom James Cook. →
- Na naslednji prosojnici si oglejte njegova potovanja.





Tri Cookova potovanja. Prvo potovanje je označeno z **rdečo** črto, drugo z **zeleno** in tretje z **modro**. **Modra črtkana črta** označuje pot Cookove posadke po njegovi smrti na tretjem potovanju.

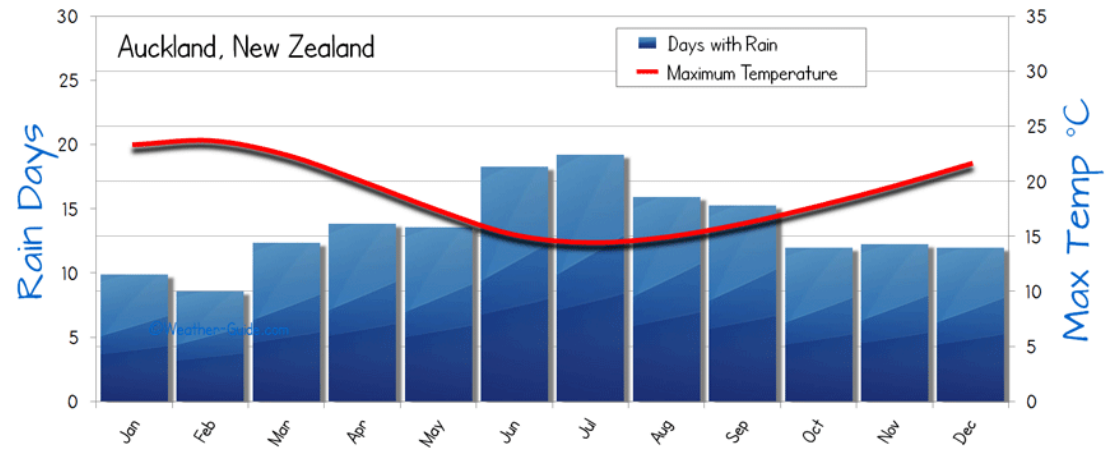
3. Posebnost Nove Zelandije je ptič kivi.

- Preberite zanimivost v U na str. 43: Dvojni pomen besede kivi.
- S čim išče hrano?
- Od kod izhaja sadež kivi?
- Kako ga še imenujejo?



4. Podnebje:

- S otok ima milo oceansko podnebje.
- J otok ima hladnejše podnebje.
- Zakaj so poletja hladnejša kot zime?
- Zakaj je čez celo leto precej padavin?
- Kateri mesec je najbolj hladen in vlažen?



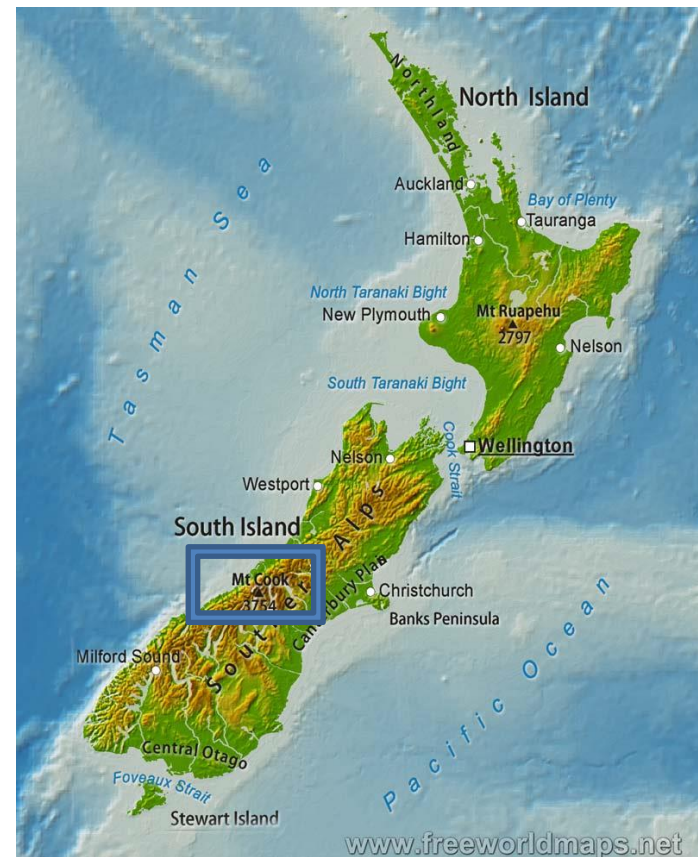
5. Močna vulkanska dejavnost - geiziri.

- Za kateri otok je značilna vulkanska dejavnost?
- Preberite v U na str. 43: Kako deluje gejzir.
- Za katero evropsko državo so tudi značilni gejziri?
- Kaj je gejzir in posledica česa je?



6. Površje je zelo gorato.

- Na južnem otoku se dvigajo Novozelandske Alpe, s številnimi ledeniki in vodnatimi rekami/HE/.
- Katera je najvišja gora?
- Katere Alpe so višje, novozelandske ali evropske?
- Zakaj poleti alpski smučarji trenirajo na novozelandskih ledenikih?



Pogled iz letala na Novozelandske Alpe.



6. Najpomembnejša gospodarska panoga je živinoreja, predvsem ovčereja.

- Kaj je omogočilo njen razvoj?
- Katere tri surovine predstavljajo skoraj polovico izvoza?
- Kateri vrsti prometa sta posebnega pomena? Kaj meniš, zakaj?



7. Dežela Maorov in evropskih priseljencev.

- Iz katere evropske države se je naselilo največ priseljencev?
- Na tej povezavi si oglejte video o novozelandskih domačinih.



<http://www.mojvideo.com/video-nova-zelandija-maori/e9ff3870a9a173e0e2f1>

