

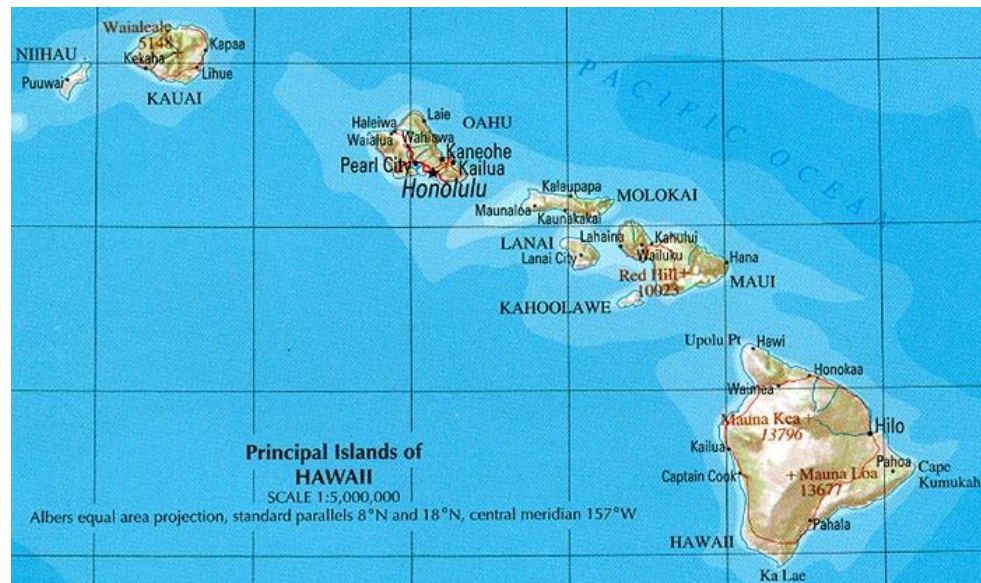
- Učenci, lepo pozdravljeni v 10. tednu učenja na daljavo.
- V tem tednu, v petek, 29. maja, vas čaka ocenjevanje znanja.
- Verjamem, da sproti ponavljate in utrjujete delo s karto.
- Natančna navodila za ocenjevanje ste dobili v priponki.
- V tem tednu boste spoznali skupine otočij sredi Tihega oceana.
- V priponki ste prejeli še zadnjo NK v tem šolskem letu.
- Rešeno NK pošljite do petka, 29. 5. 2020.
- V pomoč vam bo učbenik (str. 45 – 49), PP in karta v atlasu na str. 156/157.
- Na naslednji prosojnici je naslov, ki ga zapišete v zvezek in sledite navodilom.
- Rdeče napisanega besedila ni potrebno prepisati v zvezek.

Oceania



Na zemljevidu so Havajski otoki.

- V atlasu na str. 157 poiščite te otoke.
- Kateri državi pripadajo?
- Kako se imenuje največji otok, imenovan tudi „veliki otok“?
- Največje mesto leži na otoku Oahu. Kako se imenuje?



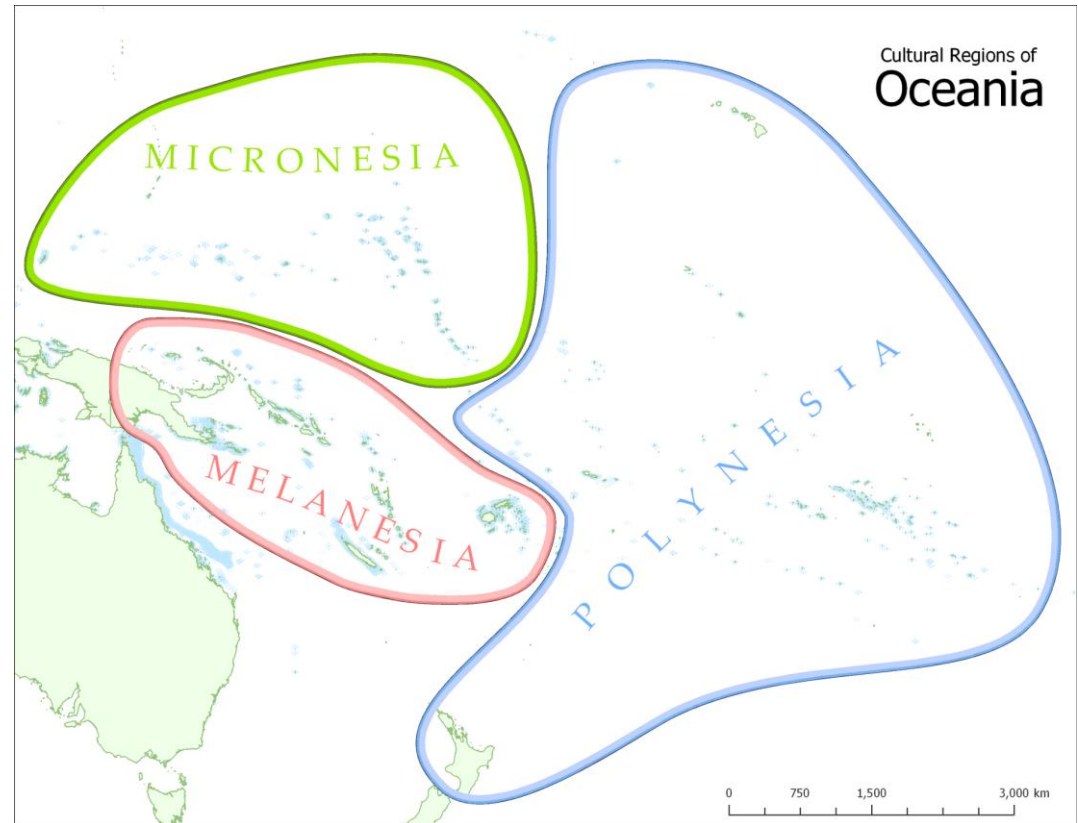
- 7. decembra, leta 1941, so Japonci, med drugo svetovno vojno, začeli napad na **Pearl Harbour** na Oahu.
- Ali ste mogoče gledali film Pearl Harbour?
- Ta pomemben zgodovinski dogodek, ki je zaznamoval 2. svetovno vojno, boste spoznali naslednje šolsko leto pri zgodovini.

- Katera zvezna država ZDA še leži izven njenega strnjenege ozemlja?
- Na katero državo meji?

1. Tri skupine otokov

V atlasu na str. 156/157 in v učbeniku na str. 45 si oglejte karto Oceanije. Odgovorite na vprašanja in odgovore zapišite pod prvo točko.

- Določite geografsko lego oceanskih otokov.
- Kaj je Oceanija?
- Na katere otoške skupine delimo Oceanijo?
- Zakaj se tako imenujejo (pojasnite njihova imena)?
- Kateri je največji otok Melanezije, ki po številu prebivalcev prekaša Novo Zelandijo?




- Katera otoška skupina je najboljsežnejša?
- Katero otočje je tudi del te skupine?
- Katero državo največkrat tudi prištevajo tej otoški skupini?

2. Otoki so vulkanskega in koralnega nastanka

Na sliki vidite koralne otoke. Oglejte si še slike v učbeniku na str. 46 in tematsko karto 1 v atlasu na str. 157. Odgovorite na vprašanja in odgovore zapišite pod drugo točko.

Preberite rubriko: Kdo želi vedeti več?, v učbeniku na str. 46 (gotovo to že veste, ker ste se učili pri naravoslovju ali biologiji).

- Iz česa so zgrajeni koralni otoki?
 - Kako se imenuje posebna oblika teh otokov?
 - Kako se imenuje vodna površina, ki jo obkroža koralni venec?
 - V kakšnih morjih živijo korale?
 - Ali so koralni otoki primerni za poselitev in razvoj gospodarstva?
 - Čemu so ponekod namenjeni ti otoki?
- 
- The image shows an aerial view of a coral atoll. It consists of numerous small, circular islands scattered across a vast expanse of blue water. The islands are light-colored, likely composed of sand and coral. One island in the lower right quadrant is significantly larger and more developed, featuring a road, buildings, and a small airport runway. The surrounding water is a deep blue, and the overall scene is a classic representation of a tropical atoll.
- S kakšnim problemom se srečujejo na nekaterih manjših otočjih?
 - S priseljenci iz katerih držav se je pomešalo domače prebivalstvo?
 - Katera naravna nesreča ogroža otoke, ki se dvigajo le nekaj metrov nad morjem?

3. Otoki imajo strateški pomen – vojaška oporišča in turistični pomen – eksotični turizem

- Zakaj je tamkajšnje okolje zelo obremenjeno?
- Posledica česa so hude ekološke posledice na otokih Oceanije?
- V učbeniku na str. 48 preberite rubriko: Ali veš?
- Otoke najdete na karti sveta, str. 164 med 100 in 120 poldnevnikom, J od J povratnika.
- Kateri skupini oceanskih otokov pripadajo Velikonočni otoki?
- Kateri državi pripadajo?
- Iz česa so nastali skrivnostni kipi na otoku?



4. Otoki imajo tropsko podnebje

- Visoke temperature in veliko padavin skozi vse leto.
- Uspeva bujno rastlinstvo – deževni gozd.
- Uspevajo različne tropske kulturne rastline.



sladkorni trst



kokosovi orehi



5. Gospodarski razvoj:

- rude - zlato, nikelj, fosfati
- nafta
- turizem
- oporišča za pomorski in letalski promet



zlato

