

Učenci, lepo pozdravljeni v novem, 7. tednu učenja na daljavo.

Upam, da ste prvomajske praznike in počitnice preživeli lepo ter se odpočili od šolskega dela.

V tem tednu boste nadaljevali s spoznavanjem Vzhodne Evrope in Severne Azije.

Samostojno boste predelali dve temi (obe sta vam znani, saj ste jih spoznali pri ostalih geografskih enotah Evrope).

- Za ponovitev še enkrat rešite obe vaji, ki ju najdete na [spletni strani šole \(GRADIVA – INTERAKTIVNE VAJE – GEOGRAFIJA – Vzhodna Evropa\)](#)
- Sledite navodilom in si pri delu pomagajte z učbenikom in atlasom.
- Na naslednji prosojnici si oglejte **slike in videoposnetek**, ki ga imate na povezavi.

Odgovorite le ustno.

- Katera ruska pokrajina velja za svetovni pol mraza?
- Tu se nahaja najhladnejši stalno naseljen kraj na svetu - <https://www.youtube.com/watch?v=BgzkrfksvP4>
Na tej povezavi si ogledaj, kakšno je življenje v tako mrzlem kraju. **Istočasno boš utrjeval angleščino.**
- Kako se imenuje ta kraj?
- Pokrajino in kraj poišči na zemljevidu, na str. 95.

- Kje je slovenski pol mraza, kjer so izmerili najnižjo temperaturo v državi?



- Gotovo si ugotovil, kaj boš spoznal v tem tednu samostojnega učenja na daljavo. Na naslednji prosojnici te čaka naslov, ki ga zapišeš v zvezek.
- V zvezek sproti prepriši točke, to bo tvoja tabelska slika.



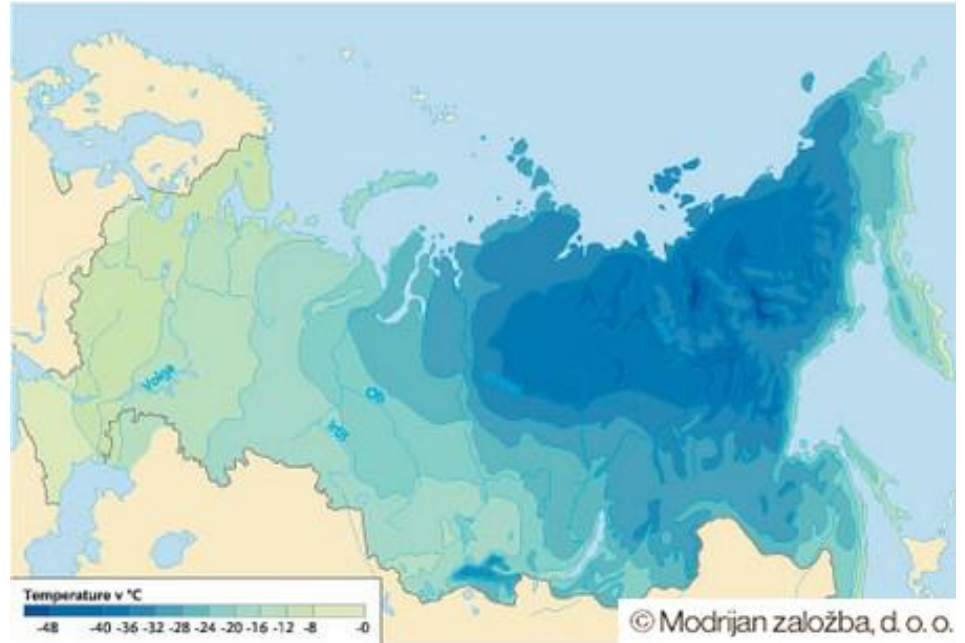
Podnebje in rastlinstvo Vzhodne Evrope in Severne Azije

1. Podnebje v V Evropi je najbolj celinsko v vsej Evropi.

- Oglej si klimogram **Moskve** v učbeniku na str. 100 in ga analiziraj, kar že dobro znaš.

2. Bolj ko gremo proti V, večje so temperaturne razlike med poletjem in zimo.

- Oglej si klimogram za kraj **Ufa** v učbeniku na str. 100 in ga analiziraj.
- Ali si opazil razliko med obema klimogramoma?



Iz karte lahko razbereš, kako se temperatura proti vzhodu znižuje.

Oba kraja poišči na zemljevidu.

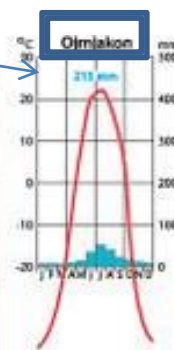
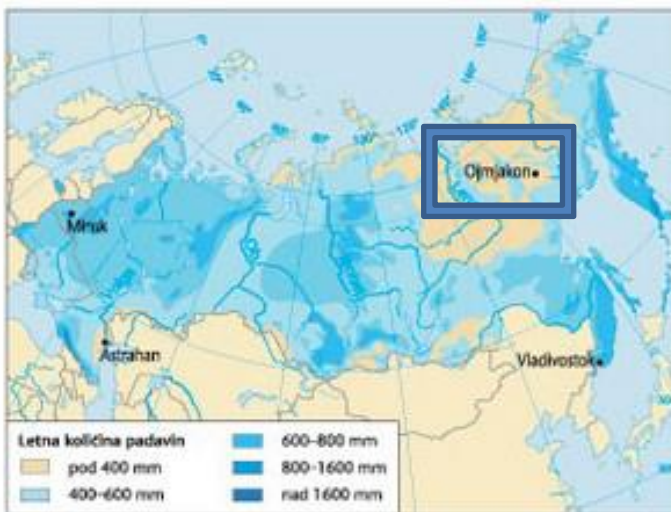
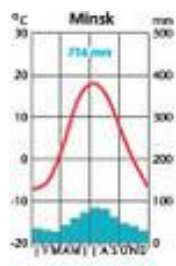
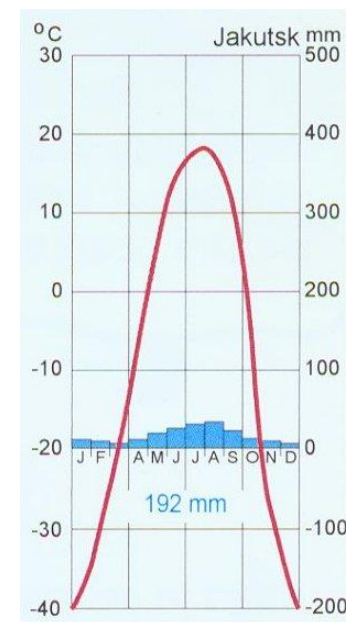
- Moskva že veš, kje leži.
- Kraj Ufa boš našel v južnem delu Urala.

3. Še bolj celinsko je v azijskem delu Rusije – poletja so zelo kratka, zime dolge in strahotno mrzle.

- Oglej si klimogram za **Jakutsk**, v učbeniku na str. 100 in na prosojnici ter ga analiziraj.

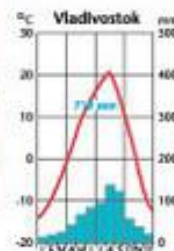
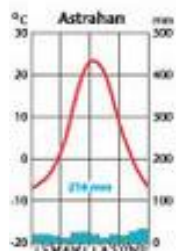
4. V SV Sibiriji je skrajno celinsko podnebje, že polarno. Tu se nahaja svetovni “tečaj ali pol mraza” **Ojmjakon** (-71° C).

- Oglej si klimogram in ga analiziraj.



Ojmjakon poišči na zemljevidu.

- Nahaja se v Gorovju Čerskega, ki ga že poznaš.



sibirska hiša



5. Sredozemsko podnebje ob Črnem morju /zimzeleno rastje/.



Poišči kraj **Soči** na zemljevidu, str. 84 – tu so bile leta 2014 zimske olimpijske igre.

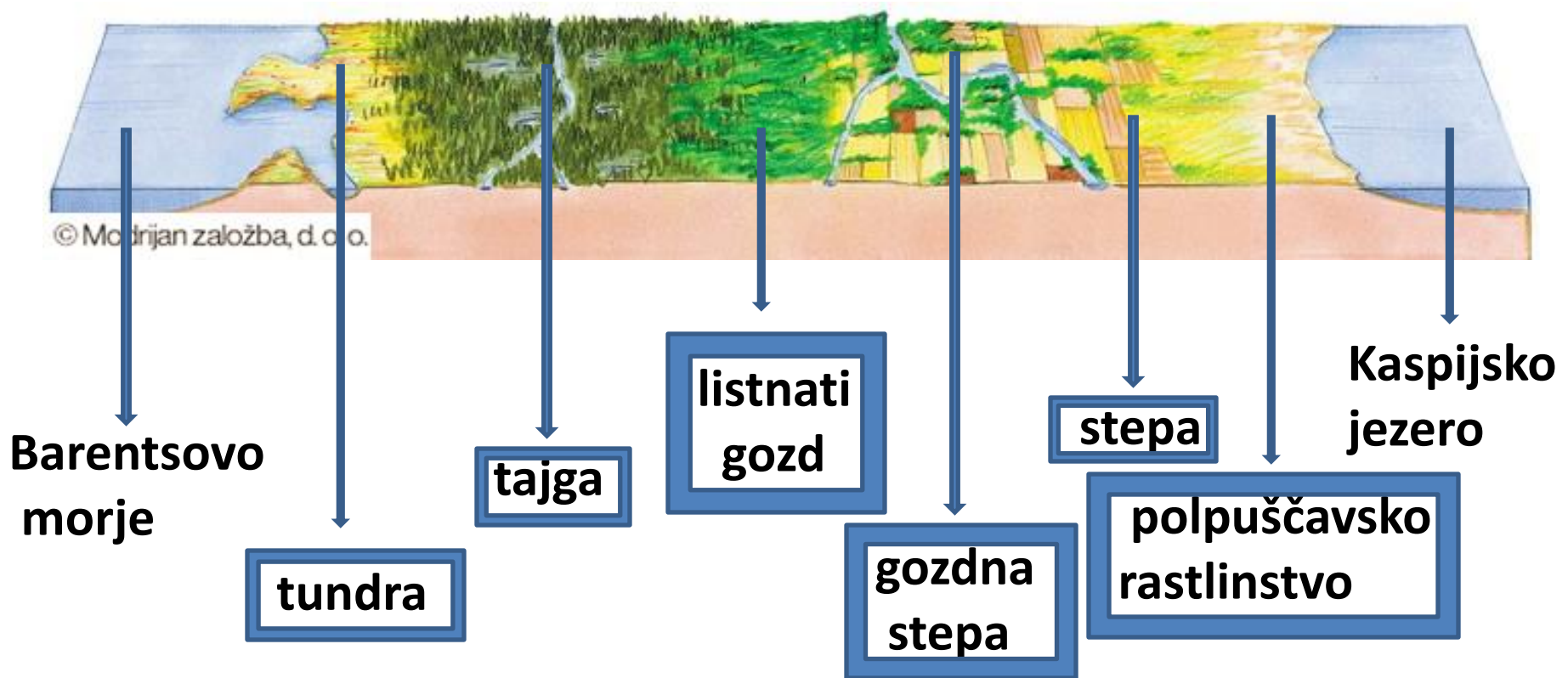






6. Rastlinski pasovi in raba tal (U 101):

Ilustracija prikazuje rastlinske pasove v poldnevniški smeri od severa – Barentsovo morje, do juga – Kaspijsko jezero. **Poglejte na zemljevidu na str. 84.**



Rastlinske pasove prepisi v zvezek v smeri od severa proti jugu.


- Pojma TUNDRA , TAJGA in STEPRA že poznaš.
- Na ilustraciji si oglej razliko med stepo in gozdno stepo – tu so najboljši pogoji za kmetijstvo zaradi rodovitne prsti, ki se imenuje črnica ali ČERNOZJOM.



sibirska tajga



tundra pozimi




tundra poleti



- Za sprostitev, da se malo oddahneš, boš rešil dva rebusa.
- To že dobro obvladaš.
- Na naslednji prosojnici, po rebusu, te čaka rešitev.
- Veselo na delo.




REŠITEV: _____





med $V + A = I$

REŠITEV: ____ + R



- V učbeniku na str. 104 preberi sestavek: [Najboljši kaviar prihaja iz Rusije.](#)
- Ali si že jedel kaviar?

- To je bil uvod v spoznavanje nove teme oziroma novih vsebin.
- Na naslednji prosojnici te čaka naslov, ki ga zapišeš v zvezek.
- Točke boš prepisal v zvezek in to bo tvoja tabelska slika.

- V učbeniku na str. 105 preberi sestavek: Černobilska katastrofa je pretresla svet.

- Černobil poišči na zemljevidu, na str. 85.

- Opiši posledice te katastrofe za bodoče rodove (**le ustno**).



Gospodarstvo Vzhodne Evrope in Severne Azije

1. RUDARSTVO /U 104/

- nafta in zemeljski plin /Zahodno-sibirsko nižavje/

Poišči nahajališča nafte in zem. plina na zemljevidu na str. 96.

- premog /Doneški bazen/

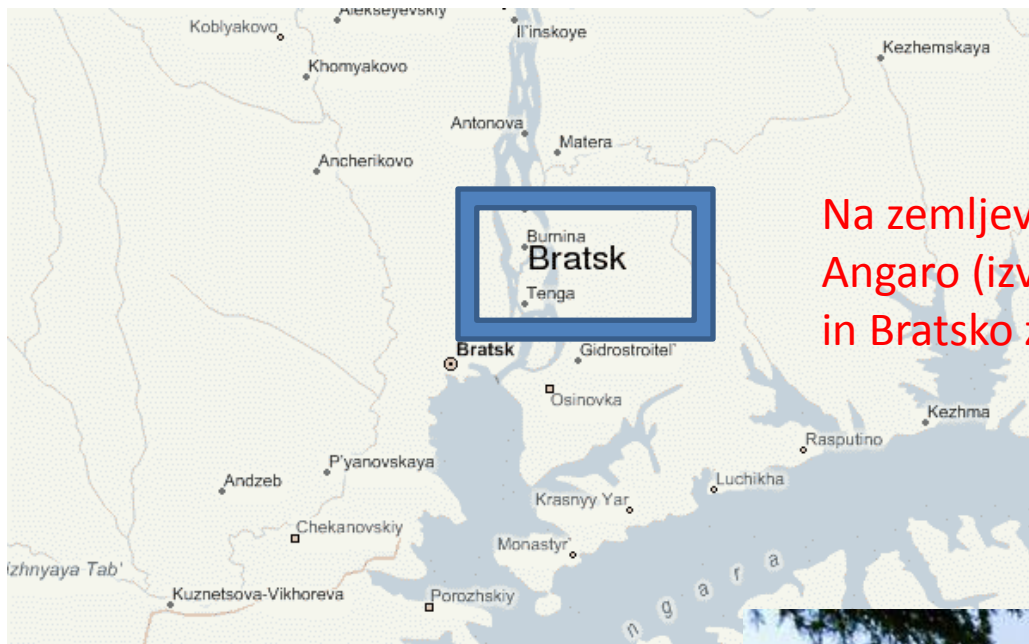
Doneški bazen poišči na zemljevidu na str. 85.

2. INDUSTRIJA

- težka industrija – železarstvo in jeklarstvo /Ural, Ukrajina/
- kemična industrija /Sibirija/
- HE, TE, JE (Kaj pomenijo kratice?)
- industrijska območja /U 104/



Industrijska območja – poišči jih na zemljevidu na str. 85, 96/97.




Na zemljevidu, na str. 95 poišči
Angaro (izvira v Bajkalskem jezeru)
in Bratsko zaježitveno jezero.

Na zemljevidu, na str. 84 in 85 poišči
Volgo na kateri boš opazil več
zaježitvenih jezer in HE.

3. ENERGETIKA

- zaježitveno jezero Bratsk na reki Angari
- zaježitvena jezera na reki Volgi (U 102)




4. KMETIJSTVO

- poljedelstvo v pasu gozdne stepe in stepe - pšenica, sladkorna pesa, sončnice (Kaj meniš, zakaj ravno v pasu stepe in gozdne stepe?)
- vrtičkarstvo - zelenjava
- živinoreja - govedoreja
- sadjarstvo in vinogradništvo- ob Črnem morju (Kaj meniš, zakaj ravno ob Črnem morju?)
- ribolov - Kaspijsko jezero, Volga (jesetri, kaviar)



- Na naslednji prosojnici te čaka naloga za ponovitev vsebin.



[Moldavija je znana po kvalitetnem vinu.](#)

Skrbno preberi spodnje trditve. Nekatere od njih so pravilne, druge napačne. Napačne trditve ustrezno popravi.

Pomagaj si z vsebinami v učbeniku na str. od 103 do 105.

1. V Vzhodni Evropi se naravne možnosti za kmetijstvo zelo razlikujejo.
 2. Sadjarstvo in vinogradništvo sta značilni za območje v bližini Belega morja.
 3. V nekdanji Sovjetski zvezi so dali največji poudarek razvoju industrije izdelkov široke potrošnje.
 4. Ukrajina svojo nafto in zemeljski plin na veliko izvaža v Rusijo.
 5. Najboljša zemljišča so še vedno na nekdanjih združenih in državnih posestvih.
 6. V Zahodno-sibirskem nižavju so največje zaloge nafte in zemeljskega plina na svetu.
 7. V azijskem delu Rusije se pas najboljših kmetijskih zemljišč močno razširi.
 8. Močno prizadeto okolje je eden največjih problemov Vzhodne Evrope in Rusije.
 9. Največ premogovnikov črnega in rjavega premoga je v Moldaviji - v Doneškem bazenu.
 10. Glavna ribolovna območja so v Črnem morju in na Jeniseju.
- Po e-pošti, do 8. 5. 2020, sporoči ali si uspešno rešil nalogo ali si imel kaj težav.