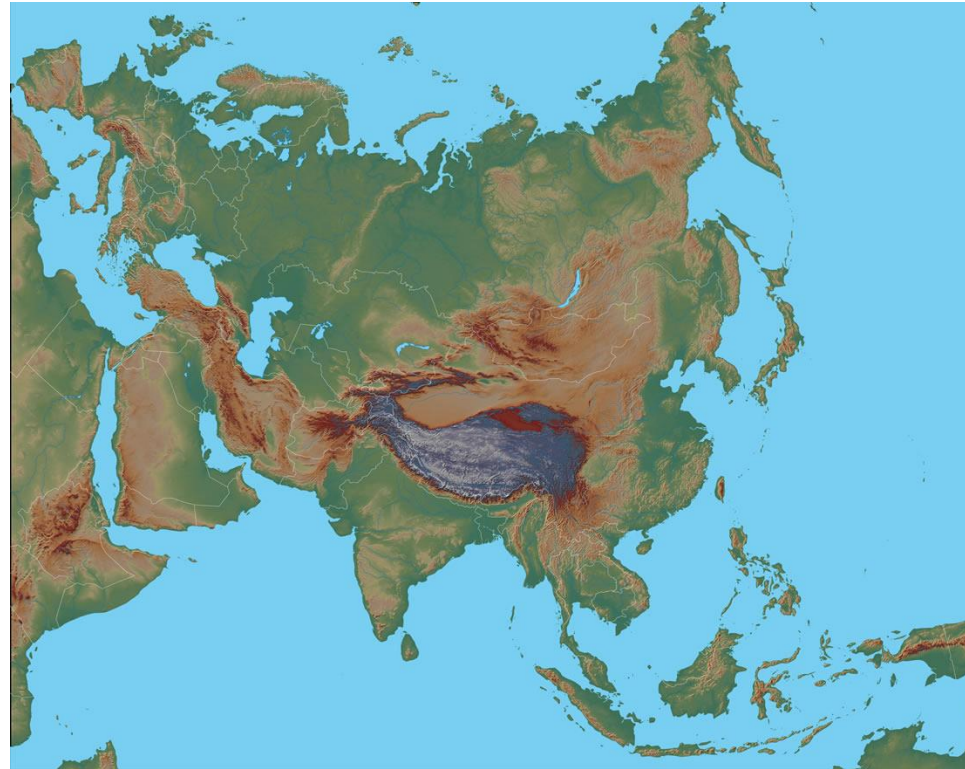


- Učenci, lepo pozdravljeni v novem, 9. tednu učenja na daljavo.
- Glede na to, da v tem tednu, v petek, 22. maja, poteka ocenjevanje iz GEO, boste imeli manj rednega dela.
- Začeli boste spoznavati največjo celino na svetu.
- V pomoč vam bo učbenik, PP, nema karta (v priponki) in karta v atlasu na str. 90/91.
- Na naslednji prosojnici je naslov, ki ga zapišete v zvezek in sledite navodilom.
- Rdeče napisanega besedila ni potrebno prepisati v zvezek.
- Izpolnjeno nemo karto pošljite po e-pošti do naslednjega ponedeljka, 25. 5. 2020.

AZIJA

- Odprite atlas na str. 90/91.
- Kot lahko opazite na karti v atlasu in na nemi karti pred vami, je Azija zelo razčlenjena celina z raznolikim površjem.
- Kaj sestavlja Azija skupaj z Evropo?
(To že veste, saj ste se že učili na začetku šolskega leta v okviru Evrope kot celote).
- Če ste pozabili ta izraz, poiščite odgovor v U na str. 108.



1. Geografska lega.

- Določite g. š. in g. d. ter lego pojasnite.
- Katera pomembna vzporednika potekata čez celino (**nariši ju v nemo karto**)?
- Glede na to ugotovitev, lahko imenujete toplotne pasove, v katere sega celina.

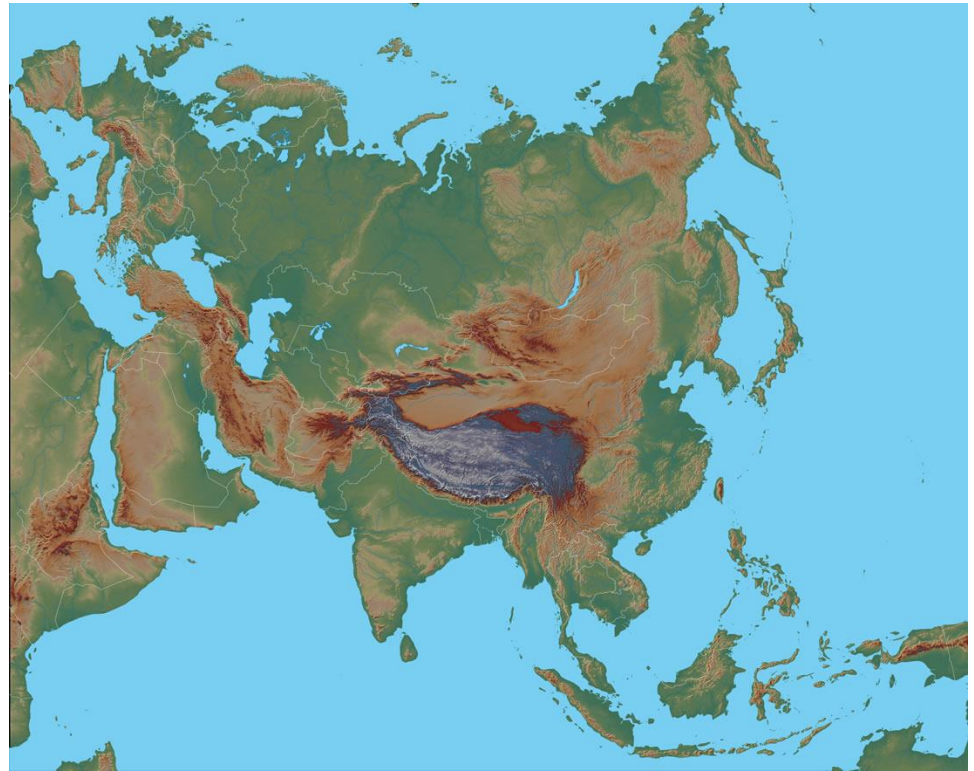
a) Po katerem gorovju in reki poteka meja med Azijo in Evropo?

b) Katero morje obdaja celino na severu?

c) Katero morje povezuje Azijo in Evropo?

č) Katero morje povezuje Azijo in Afriko?

d) Kateri ocean omejuje celino na Vzhodu in kateri na jugu?



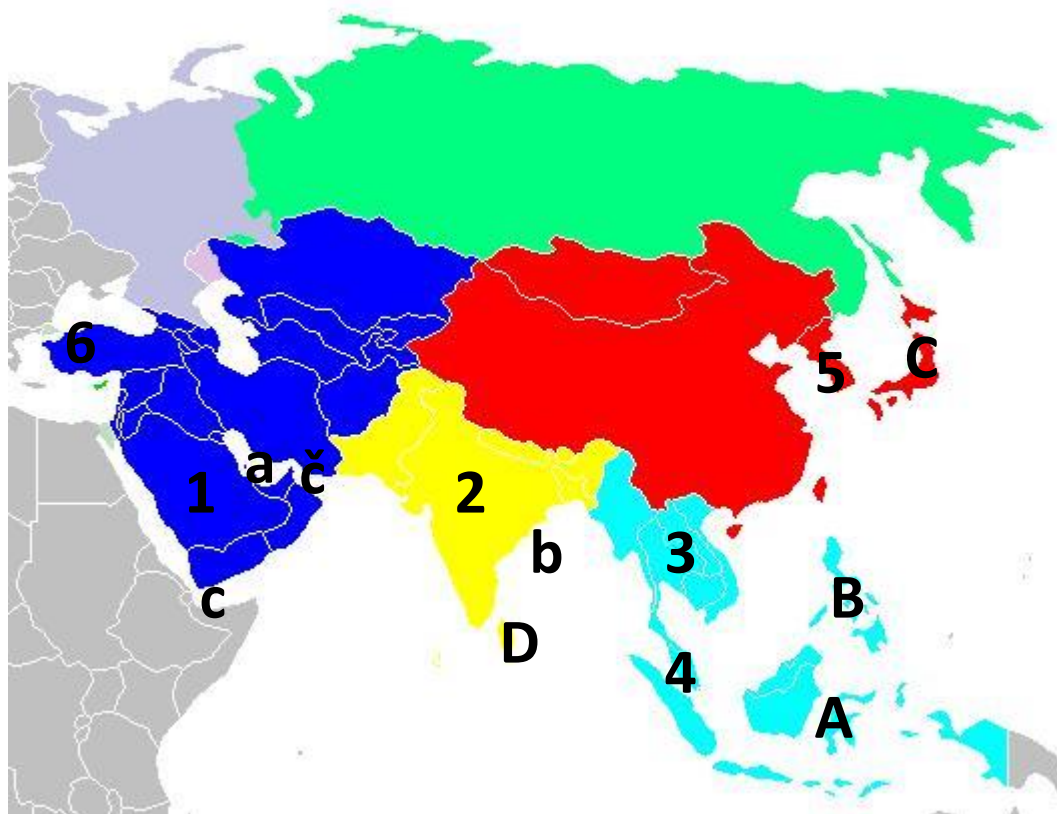
- **Odgovore na vprašanja označena s črkami vpišite v nemo karto.**

2. Geografske enote.

- Odprite U na str. 114.
- Pozorno pogledite karto: Delitev Azije na geografske enote in preberite še besedilo ob karti.
- Nemo karto, ki ste jo dobili v priponki, opremite z legendo, na podoben način, kot je v učbeniku.
- Geografske enote ustrezno pobarvajte in nemo karto prilepite v zvezek.

3. Razčlenjene obale – otoki, polotoki, zalivi.

- S pomočjo karte na prosojnici in karte v atlasu poimenujte polotoke, otočja, otok in zalive.
- V zvezek naredite **legendo** – označite pojme s številkami in črkami in jih vpišite na nemo karto.



1,2,3,4,5,6 – polotoki
A, B,C, D – otočja in otok
a, b, c, č – zalivi

- Ime za polotok, označen s **št. 3**, ne boste našli na zemljevidu. Imenuje se INDOKINA ali INDOKITAJSKI POLOTOK.