

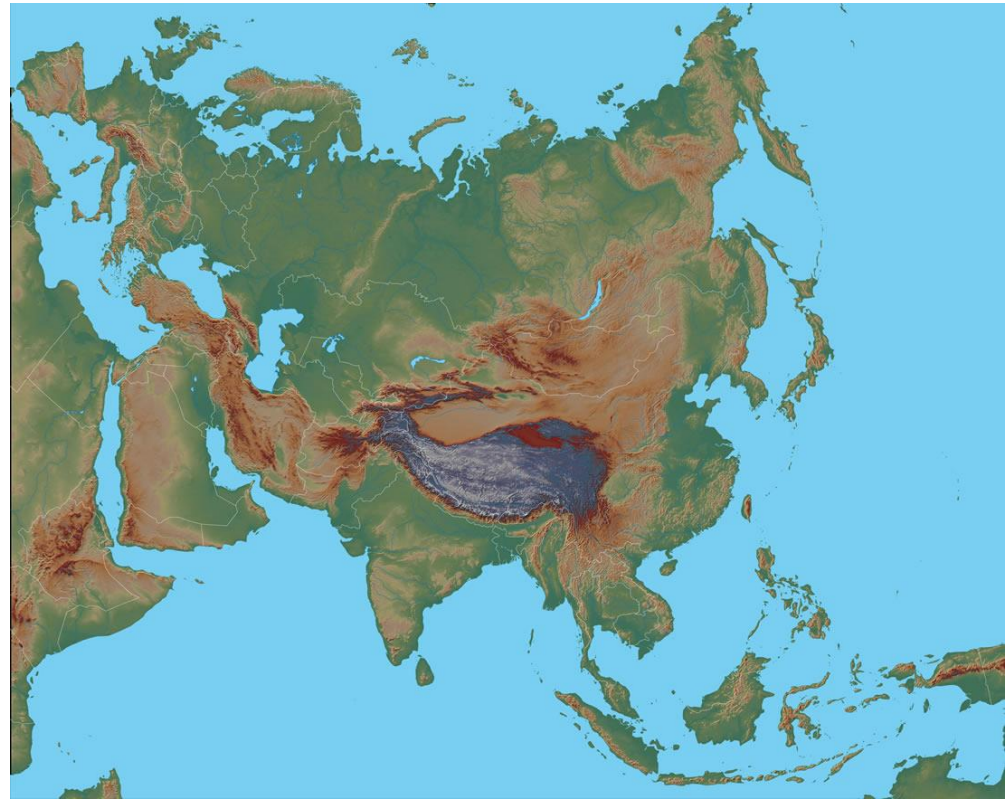
- Učenci, lepo pozdravljeni v 10. tednu učenja na daljavo.
- V prejšnjem tednu je potekalo ocenjevanje znanja. Nekateri ste bili zelo uspešni, nekateri malo manj. Vsi si zaslužite pohvalo, saj vem, da se je vsak potrudil po svojih najboljših močeh.
- Povratno informacijo in s tem analizo ocenjevanja znanja boste prejeli po e-pošti v tem tednu.
- V tem tednu boste nadaljevali s spoznavanjem največje celine na svetu.
- V pomoč vam bodo, tako kot vedno, PP, učbenik in karte v atlasu.
- Na naslednji prosojnici je naslov, ki ga zapišete v zvezek in sledite navodilom.
- Rdeče napisanega besedila ni potrebno prepisati v zvezek.
- Dopolnjeno nemo karto pošljite po e-pošti do petka, 29. 5. 2020.

POVRŠJE AZIJE

O Aziji že veliko veste.

Poznate:

- geografsko lego
- geografske enote
- večje polotoke, otočja, otok, zalive, morja, oceane
- Vse to imate označeno na nemi karti.
- Nemo karto boste dopolnili z imeni površinskih enot Azije.



1. NAJVIŠJA GOROVJA

- Odprite atlas na str. 90/91.
- Poiščite najvišja gorovja na zemljevidu.
- V zvezek in na nemo karto napišite imena gorovij.

a) **Himalaja** - najvišje gorovje na svetu,
Mt. Everest - najvišja gora v Himalaji
in na svetu.

- Kolikšna je njegova nadmorska višina?
- Poteka po meji med dvema največjima državama po številu prebivalstva.
- Kateri sta ti dve državi? Pomagajte si s karto 3, na str. 90.

b) Karakorum – nadaljevanje Himalaje
proti zahodu

c) Pamir – nadaljevanje Karakoruma
proti severozahodu



č) Altaj – na meji med Rusijo, Kitajsko,
Mongolijo in Kazahstanom

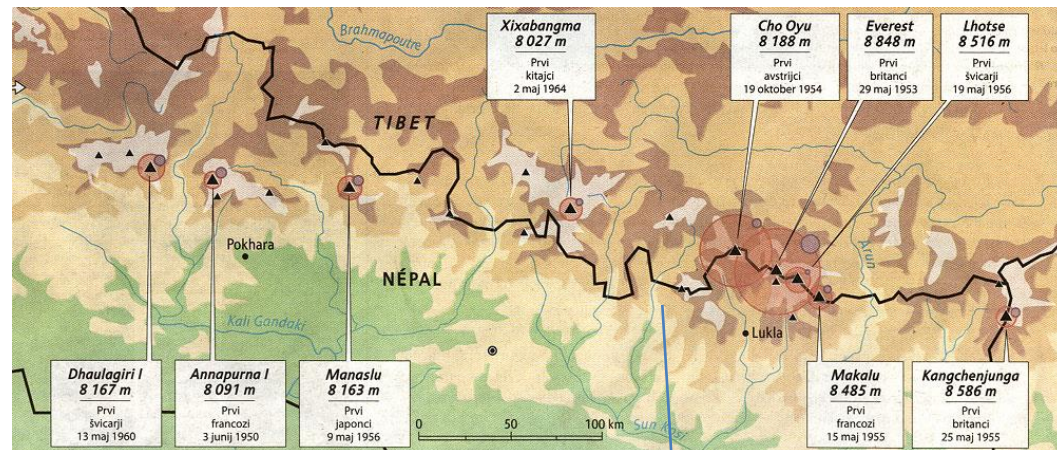
- Poiščite te države na zemljevidu,
pomagajte si s karto 2, na str. 90.

d) Kavkaz – med Kaspijskim jezerom in
Črnim morjem

Mount Everest




- Gotovo poznate slovenskega alpinista in gorskega reševalca, ki je leta 2009 izgubil življenje v pogorju Himalaje.



Njegovi osvojeni osemtisočaki v Himalaji.

Šerpe – nosači v Himalaji




Tomaž Humar



•“šerpe” – nosači na himalajskih odpravah – glavni vir zaslužka v Nepalju in Butanu.

• Na zemljevidu, na str. 90/91 (karti 2 in 1) poiščite ti dve himalajski državi.



2. VELIKA NIŽAVJA (poiščite jih na zemljevidu, str. 90/91 in jih vpišite na nemo karto)

a) Veliko kitajsko nižavje – reki Huang He (Rumena reka), Jangce Jang (Modra reka)

- Rumeno in Modro reko že poznate. Tu je nastala ena prvih visoko razvitih civilizacij.
- Katera je bila ta visoko razvita država?

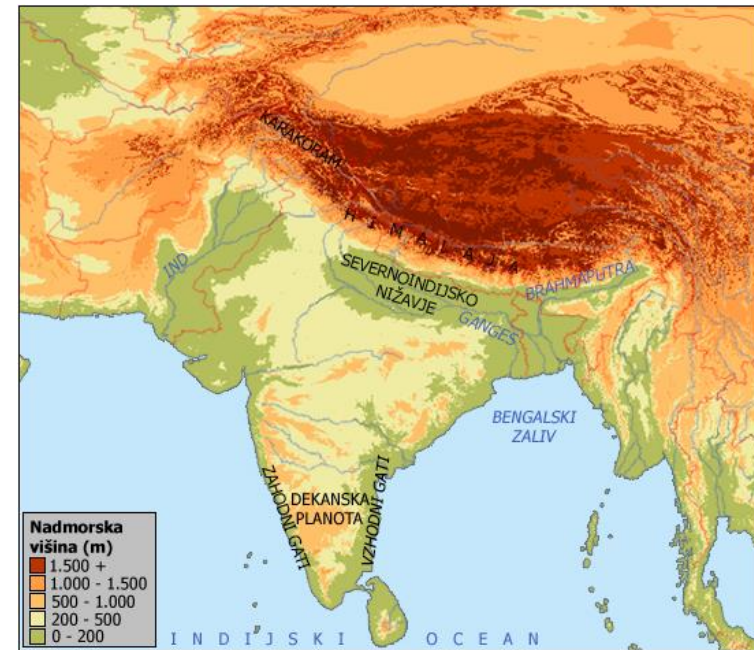
b) Mandžurija – SV Kitajske

c) Hindustan ali Severnoindijsko nižavje – na S Indije, ob reki Ganges

č) Bengalija – na SV Indije, v državi Bangladeš, ob reki Ganges in Bramaputra

d) Indsko nižavje – na SZ Indije, v državi Pakistan, ob reki Ind

- Reko Ind tudi že poznate.
- Katera visoko razvita država je nastala ob njej?

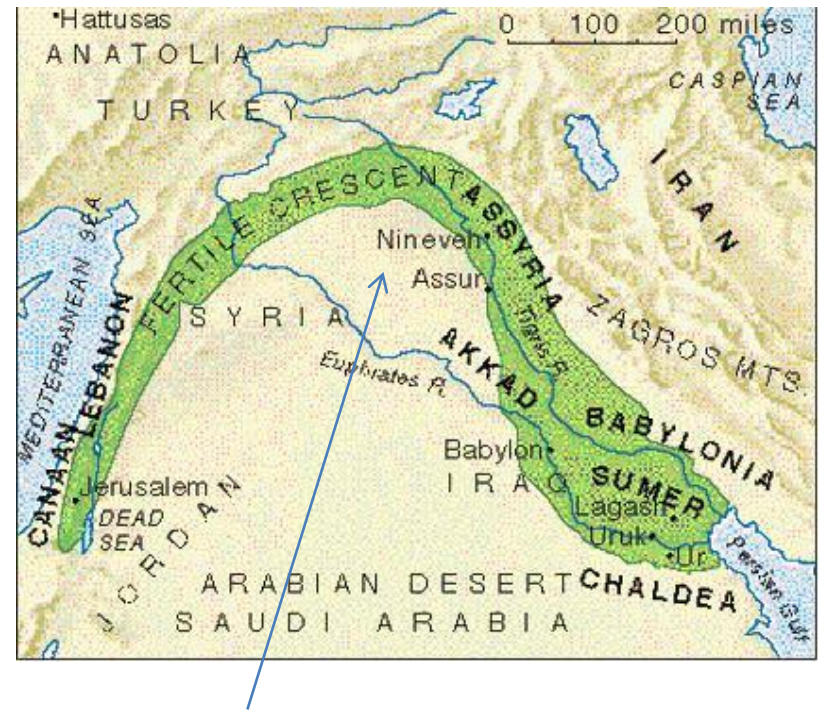


e) Turansko nižavje – blizu Kaspijskega jezera, reki Amu Darja in Sir Darja

- V katero jezero se izlivata reki?

f) Mezopotamija – na Arabskem polotoku, ob rekah Evfrat in Tigris

- Ti dve reki sta vam tudi že poznani.
- Katera visoko razvita država je nastala ob njiu?



- Ali se spomnite rodovitnega polmeseca?
- Učili ste se pri zgodovini v okviru visoko razvitih civilizacij.
- V kateri zaliv se izlivata reki (v modrem kvadratu vidite skupen izliv obeh rek)?
- Na sliki je sotočje obeh rek.



- Karta prikazuj najdaljšo kitajsko reko Jangce Jang ali Modra reka.
- **V katero morje se izliva?**
- Ob izlivu je nastalo največje kitajsko mesto in pristanišče.
- **Kako se imenuje?**



- Modra reka ima lijakast izliv in je pomembna plovna pot.

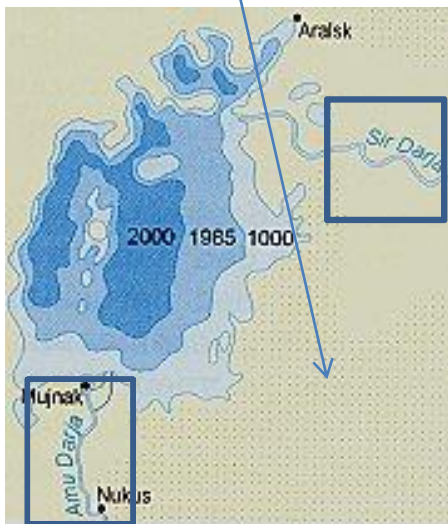




- Rumena reka ali Huang He ima deltasti izliv, ni primerna za plovbo, ker pogosto poplavlja.
- Slike na levi prikazujejo njeno razdiralno moč. Pogosto prestopi bregove in prestavlja svojo strugo. Za več kot 500km je prestavila svoj izliv.
- V katero morje se izliva?
- Kaj meniš, za kaj izkoriščajo obe reki, glede na to, da tečeta čez Veliko kitajsko nižavje?

3. PUŠČAVE (poiščite jih na zemljevidu in vpišite jih na nemo karto)

- a) Puščave na Arabskem polotoku
- b) Gobi – na meji med Kitajsko in Mongolijo
- c) Takla Makan – JZ od puščave Gobi v Tarimski kotlini
- č) Thar – na SZ Indije
- d) Kizilkum in Karakum v Turanskem nižavju ob rekah Amu Darja in Sir Darja



4. PLANOTE- VIŠAVJA

(poiščite jih na zemljevidu in jih vpišite na nemo karto)

a) Tibet ali Tibetansko višavje
– S od Himalaje, na JZ Kitajske

b) Dekan – na J Indije

c) Iransko višavje – J od
Kaspijskega jezera

c) Anatolsko višavje – na
polotoku Anatolija v Turčiji



Tibetanska planota – molitve, posvečene duhovnemu in verskemu voditelju budistov
Dalajlami



tibetansko govedo jak



5. KOTLINE (poiščite ju na zemljevidu in ju vpišite na nemo karto)

a) Tarimska kotlina – SZ od Tibetanske planote, kjer se nahaja puščava Takla Makan

b) Džungarija – S od Tarimske kotline in J od gorovja Altaj



- Za ponovitev rešite vajo na spletni strani šole: gradiva – interaktivne vaje – geografija – Azija – reliefne enote, reke in morja - 2. vaja