

Dragi sedmošolci,

v prejšnjem tednu ste preverili svoje znanje. Učenci, ki ste preverjanje opravili, ste že dobili povratno informacijo, o tem, kako ste bili uspešni. Z veseljem sem brala vaša razmišljanja.

Ostali preverjanje oddajte čim prej, da ga lahko ovrednotim, saj bo na podoben način potekalo tudi ocenjevanje znanja.

Navodila za ocenjevanje znanja boste dobili na začetku 10. tedna.

V tem tednu boste **ponavljali in utrjevali znanje** in se tako pripravili na ocenjevanje.

Zdaj pa veselo na delo! Čakajo vas naslednje naloge:

Naloga 1: Preglej **REŠITVE KRIŽANKE** prejšnjega tedna: Skupnost državljanov Republike Slovenije. **Dopolni**, če je potrebno.

Naloga 2:

a) Reši **MALE SIVE CELICE** in tako utrjuj svoje znanje.

b) Izdelaj **ČASOVNI TRAK**. Ob izdelavi boš ponovil učne vsebine o nastanku Slovenije, kar ti bo prišlo prav pri ocenjevanju znanja.

Naloga 3:

Pridi na uro preko **ZOOMA** ki bo v **četrtek, 21.5.2020**.

7.a: ob 10.00

7.b: ob 11.00

Vabilo boš prejel po e-pošti. Pregledali bomo učne vsebine in se pogovorili o ocenjevanju znanja.

Do srečanja uredi zvezek/nalepi liste in naredi vse domače naloge.

Časovni trak in rešene male sive celice fotografiraj mi

pošlji do petka, 22. 5. 2020.

Če imaš vprašanje, piši na naslov tatjana.lekan@guest.arnes.si

Želim ti uspešen teden!

učiteljica Tatjana Lekan

MALE SIVE CELICE: Nastanek nove države

A	Država, h kateri je pred letom 1918 spadalo slovensko ozemlje.	
B	Otok na zahodni strani hrvaške Istre, kjer so podpisali deklaracijo, s katero se je končala vojna med Slovenijo in Jugoslavijo.	
C	Država, ki je v EU vstopila leta 2004, takrat kot Slovenija, Češka, Estonija, Latvija, Litva, Madžarska, Malta, Poljska in Slovaška.	
Č	Najpomembnejši pravni akt v naši državi je razdeljen na poglavja; v poglavjih pa so zapisani _____.	
D	Skupno ime za politične stranke, ki so se leta 1990 povezale v <u>demokratsko opozicijo Slovenije</u> .	
E	Denarno valuto <i>tolar</i> smo Slovenci dobili leta 1991 in jo uporabljali 16 let. Imenuj valuto, ki jo je Slovenija prevzela leta 2007.	
F	Ime (in priimek) politika, ki je v takratni skupščini 25. 6. 1991 razglasil samostojno državo Republiko Slovenijo.	
G	Listek, ki ga volivci dobijo na volišču, ko pridejo glasovat.	
G	Državni simbol, ki ga pogosto vidimo na štampljkah.	
H	Prva država, ki je priznala Slovenijo kot samostojno državo.	
H	Izvaja se na proslavah ob državnih praznikih. Ob poslušanju stojimo, na koncu ne ploskamo.	
I	Sosednja država, v kateri živi največ zamejskih Slovencev.	
J	Vojska države Jugoslavije, ki je dobivala navodila za napade iz Beograda.	
K	Prvi slovenski predsednik, ki je na slovesni proslavi ob razglasitvi samostojne države izrekel znamenite besede: <i>»Danes so dovoljene sanje. Jutri je nov dan.«</i>	
L	Kraj, v katerem je 26. 6. 1991 potekala slovesna proslava ob razglasitvi samostojne države.	

M	Listina, ki jo je 8. maja 1989 prebral Tone Pavček: v njej je bilo zapisano, da Slovenci želijo samostojno državo, več pravic in več političnih strank.	
N	V Republiki Sloveniji imamo dve. Pripadniki italijanske živijo na območjih občin Koper, Izola, Piran in Ankaran. Pripadniki madžarske živijo na območjih občin Lendava, Dobrovnik, Šalovci, Moravske Toplice in Hodoš.	
O	V Sloveniji je razdeljena na 3 dele (3 veje): zakonodajno, izvršno in sodno.	
P	Priimek (in ime) predsednika <i>DEMOSA – demokratične opozicije Slovenije</i> , po katerem se danes imenuje najpomembnejše slovensko letališče.	
P	Glasovanje, ki je potekalo 23.12. 1990. Volivci so odgovarjali na vprašanje: <i>Ali naj Republika Slovenija postane samostojna in neodvisna država?</i>	
R	France Bučar jih je razglasil 26.12.1990. V spomin na ta dogodek je 26. december državni praznik – dan samostojnosti in enotnosti.	
S	Kratika za slovensko teritorialno obrambo.	
Š	Denarna podpora, ki jo naša država nameni dijakom in študentom.	
T	Trg, na katerem je potekala proslava ob razglasitvi samostojne države.	
U	Najpomembnejši dokument v državi, ki ga lahko beremo, občudujemo v stripu, poslušamo, ...	
V	Desetdnevni spopad med slovensko in jugoslovansko vojsko.	
V	Sestavlja jo predsednik vlade in ministri.	
Z	Omogočil je izvedbo plebiscita.	
Ž	Oseba, ki predstavlja občino in vodi seje občinskega sveta.	

Prav je, da vemo, kako je nastala naša država. Več podrobnosti o nastanku države boste spoznali v 9. razredu pri zgodovini.

Da pa do takrat ne boste vsega pozabili, boste ta teden izdelali **časovni trak**, ki ga skrbno shranite do 9. razreda.

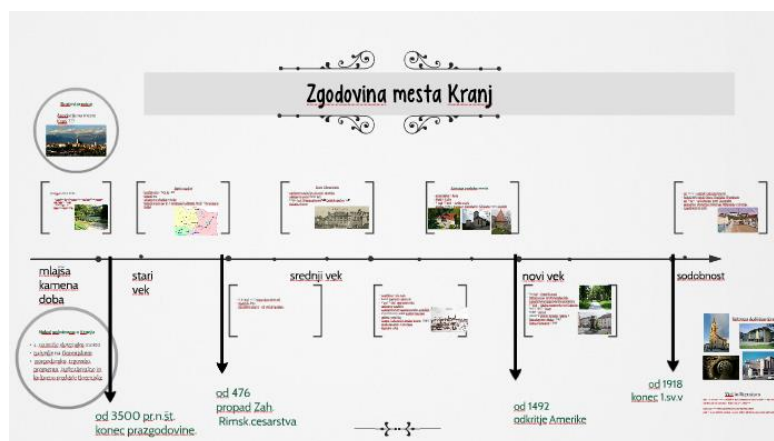

Navodila:


- **časovni trak izdelaj v velikosti risalnega lista** (če ga nimaš doma, lahko zlepiš skupaj 2 lista A4),
- **časovni trak poimenuj: NASTANEK REPUBLIKE SLOVENIJE**,
- **piši čitljivo**,
- **prikaži vsaj 10 dogodkov**: pomagaj si z razpredelnico, ki si jo dobil v šoli
- ob zapisu **nariši (lahko tudi nalepiš)**, kar je značilno za ta dogodek,

Primer: *Slovenija, ena od 6 republik v Jugoslaviji– zemljevid, Majniška deklaracija – kamion, list -zakon o plebiscitu, plebiscit – volilna skrinjica,.....)*

- časovni trak naj bo izdelan tako, da **pritegne pozornost**.

Kako boš predstavil dogodke, pa prepuščam tebi. Mogoče ti bodo v pomoč spodnji primeri različnih časovnih trakov.





ČASOVNI TRAK ZGODOVINE ČLOVEŠTVA

