
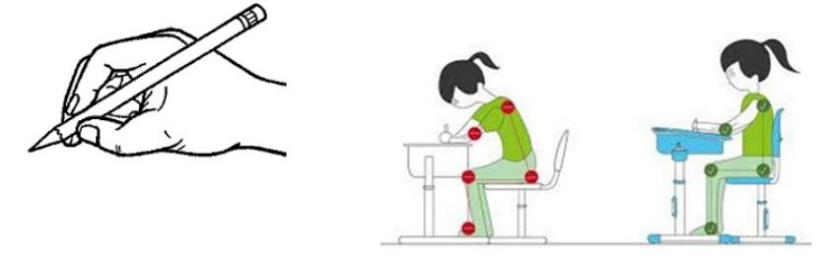





















RAZRED IN PREDMET		
2. razred		
SLOVENŠČINA 	Velika in mala pisana črka T	<p>V prilogi te čaka besedilo. Poišči najprej velike tiskane črke T, ki so zapisane z rdečo barvo in jih še enkrat prevleci z rdečo barvo. Sedaj pa sledi težja naloga, saj moraš sam poiskati male pisane črke t. Ravno tako jih prevleci z rdečo barvo.</p> <p>Koliko malih pisanih črk T si našel?</p> <p>Pri pisanju bodi pozoren na pravilno držo pisala in pravilno držo telesa:</p> 
	Trnuljčica	<p>Ne pozabi napisati najmanj 6 povedi o pravljici! Naj ti bodo v pomoč naslednja vprašanja:</p> <p><i>Kdo nastopa v pravljici?</i> <i>Kaj je bilo napovedano Trnuljčici?</i> <i>Kaj se je zgodilo?</i> <i>Kdo vse jo je poskusil rešiti?</i> <i>Kdo pa jo je na koncu prebudil?</i> <i>Kaj se je zgodilo s princem in Trnuljčico?</i></p> <p>Povedi moraš poslati do petka, 17. 4. 2020.</p>

<p>MATEMATIKA</p> 	<p>Besedilne naloge</p>	<p>Preden začneš reševati besedilne naloge, se spomni na korake reševanja besedilnih nalog.</p> <table border="1" data-bbox="1008 319 2027 478"> <tr> <td>1.)PREBERI </td> <td>2.)PODČRTAJ </td> <td>3.)NARIŠI </td> <td>4.)IZRAČUNAJ </td> <td>5.)ODGOVORI </td> <td>6.)PREVERI </td> </tr> </table>	1.)PREBERI 	2.)PODČRTAJ 	3.)NARIŠI 	4.)IZRAČUNAJ 	5.)ODGOVORI 	6.)PREVERI 
1.)PREBERI 	2.)PODČRTAJ 	3.)NARIŠI 	4.)IZRAČUNAJ 	5.)ODGOVORI 	6.)PREVERI 			
	<p>Urejanje števil po velikosti</p>	<p>Da ti bo urejanje števil po velikosti lažje, si jih zapiši na listke, lahko pa tudi skopiraš prilogo in samo izrežeš. Ko imaš števila v roki, jih postavljaš v pravo zaporedje.</p>						
	<p>Zapis števil z besedo</p>	<p>Večja števila so sestavljena iz manjših števil in besede in. Na primer:</p> <p>23 = <table border="1" data-bbox="1131 738 1641 823"> <tr> <td>tri</td> <td>in</td> <td>dvajset</td> </tr> </table></p> <p>Za vajo si lahko zapišeš z besedo vsa števila od 1 do 20 ter besedo in. Potem pa ta števila izrežeš in jih postavljaš skupaj. V prilogi imaš števila že zapisana. Lahko jih natisneš, izrežeš in pravilno postavljaš zapis števil z besedo. Najprej število zapišeš s števki, nato pa še z besedo. Igro se lahko igraš tudi s starši ali brati/sestrami, ki že poznajo števila do 100.</p>	tri	in	dvajset			
tri	in	dvajset						

Tamara in Tilen se gugata na igrišču.
Z novim kolesom se je po poti pripeljal
Filip. Tamara je stekla k Filipu in ga
poprosila: „Se lahko peljem?“ Filip pa je
odkimal in se odpeljal. Tilen in Tamara
sta naxočarana
gledala xa njim.
Vzela sta šogo
in se šogala.



10. naloga na učnem listu

64

15

96

44

26

37

82

60

99

51

ena	dva	tri	štiri	pet	šest	sedem	osem	devet	deset
enajst	dvanajst	trinajst	štirinajst	petnajst	šestnajst	sedemnajst	osemnajst	devetnajst	dvajset
in									