

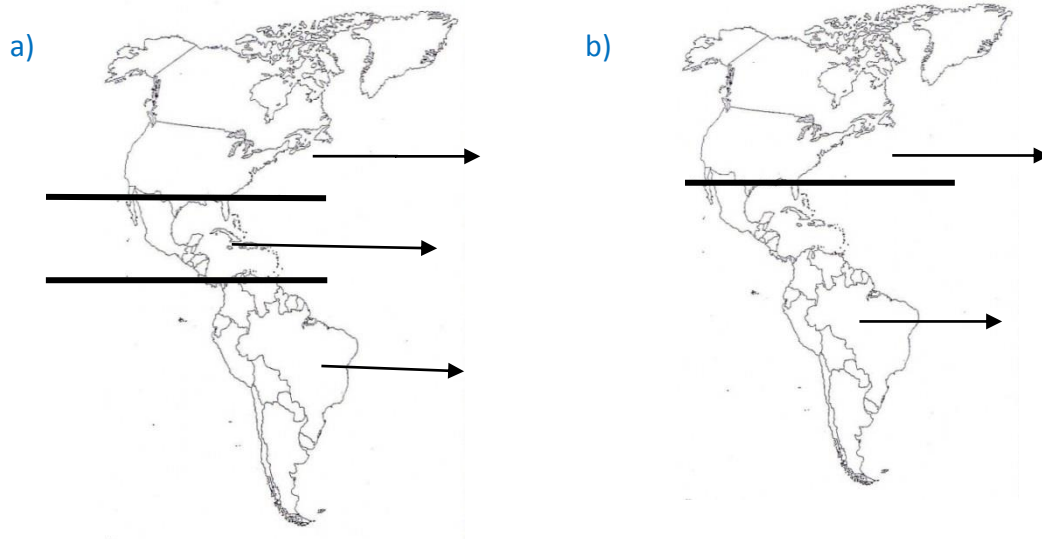
## AMERIKA KOT GEOGRAFSKA CELOTA – utrievanje (REŠEN UL pošljite do PETKA, 17. 4. 2020)

Pri delu NE POZABI uporabljati različne karte v atlasu.

### 1. Ameriko lahko delimo na več delov.

- Poimenuj posamezne dele Amerike glede na geografsko lego.
- Poimenuj posamezna dela Amerike glede na kolonialno preteklost.

Odgovore napiši poleg puščic.



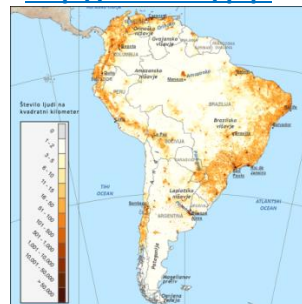
### 2. Ob zemljevidih primerjaj gostoto poselitve v Severni in Južni Ameriki. Razmisli in upoštevaj geografsko lego obeh Amerik.

Obkroži DA, če je trditev pravilna, oziroma NE, če trditev ni pravilna.

<http://url.sio.si/pq2>



<http://url.sio.si/pq3>



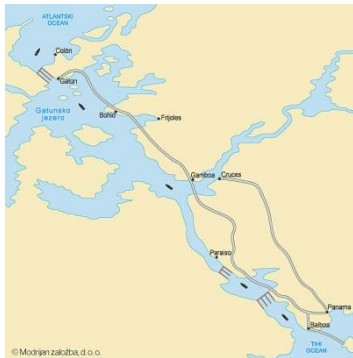
- Brazilsko višavje je zelo redko poseljeno. DA NE
- Osrednje nižavje je gosteje naseljeno kot Amazonsko nižavje. DA NE
- Obale Velikih jezer so gosto poseljene. DA NE
- Severnoameriške Kordiljere so gosteje naseljene kot Južnoameriške Kordiljere. DA NE
- 50. vzporednik je mejna črta v poselitvi Južne Amerike. DA NE

### 3. Med napisanimi rekami obkroži tiste, ki se nahajajo v Južni Ameriki.

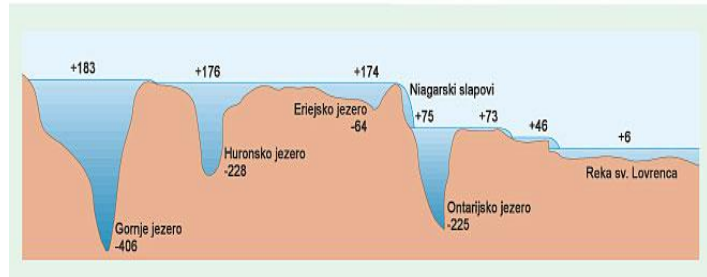
Kolorado, Parana, Tennessee, Misisipi, Kolumbija, Orinoko, Amazonka, Urugvaj

**4. Amerika ima dobro razvito prometno omrežje (pomagaj si z učbenikom na str. 75 in 85 ter atlasom na str. 143 in 148).**

Pozorno si oglej tudi spodnji sliki ter na črto pod vsako, k nalogi **a)** napiši ime prometne poti in odgovori na vprašanja.



© Modrijan založba, d. o. o.



<http://url.sio.si/mwZ> - na tej povezavi si poglejte, kako poteka plovba čez prekop.

a) \_\_\_\_\_

b) V preteklosti plovba po obeh vodnih poteh ni bila mogoča, danes pa je. Kaj so morali zgraditi, da je danes plovba preko obeh prekopov možna?

\_\_\_\_\_

\_\_\_\_\_

**5. V učbeniku si moral prebrati rubriko »Kdo želi vedeti več?« z naslovom: Amazonski staroselci so žrtve sodobne civilizacije. Utemelji to trditev.**

\_\_\_\_\_

\_\_\_\_\_


**6. V Južni Ameriki je največje območje tropskega deževnega gozda.**

a) S pomočjo ilustracije navedi **3 značilnosti** tropskega deževnega gozda.

- \_\_\_\_\_

- \_\_\_\_\_

- \_\_\_\_\_

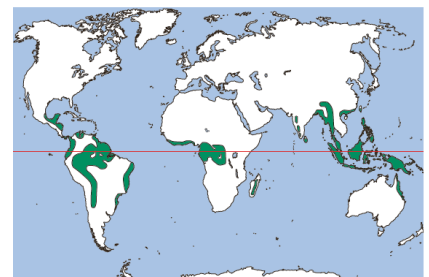


b) S pomočjo spodnje karte imenuj **3 območja**, kjer raste tropski deževni gozd.


- \_\_\_\_\_

- \_\_\_\_\_

- \_\_\_\_\_



7. Sliki prikazujeta dva obraza brazilskega velemesta (poglej si sliki tudi v učbeniku na str. 98). Na črto pod vsako sliko napiši imeni istega mesta in navedi **2 razliki**.

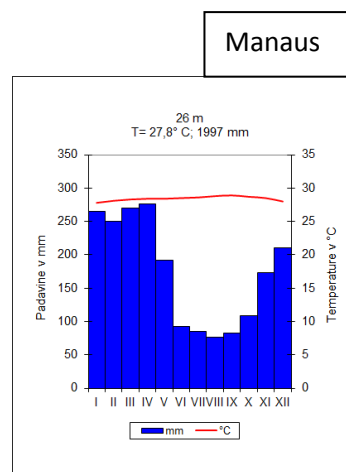
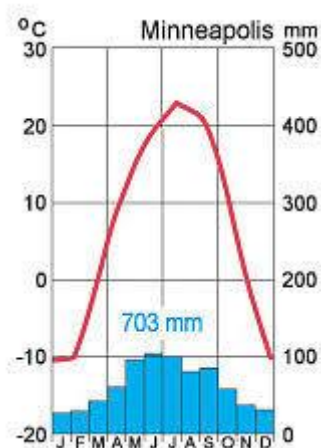



---



---

8. Pred seboj imaš dva klimograma. Oba kraja poišči na zemljevidu (A 138 in 150) in na črte pod klimograma napiši zahtevano.



Toplotni pas: \_\_\_\_\_

---

Podnebje: \_\_\_\_\_

---

Rastje: \_\_\_\_\_

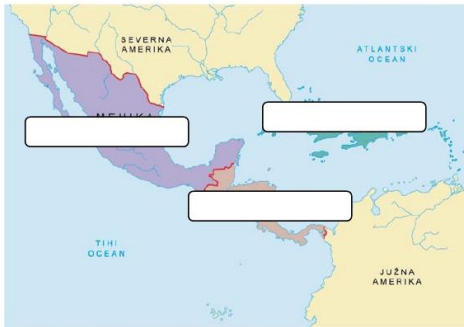
---

Nižavje: \_\_\_\_\_

---

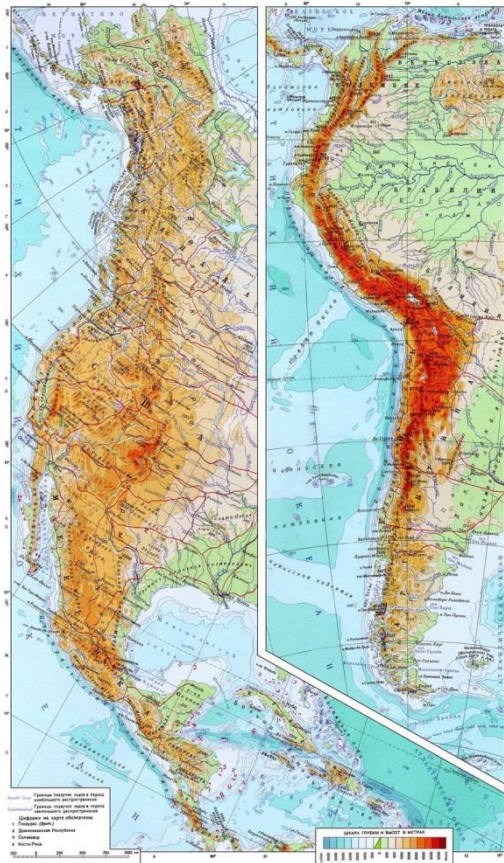
9. Srednjo Ameriko sestavljajo tri geografske enote. Na karti so označene s pravokotniki. V pravokotnik na desni, naredi legendo tako, da bo iz nje razvidna delitev Srednje Amerike.

□ □



**LEGENDA:**

10. Pred teboj je karta Kordiljer v S in J Ameriki. Pri delu si pomagaj tudi s karto v A na str. 132, 133. Odgovori na vprašanja.



1. Kako še radi rečemo Severnoameriškim Kordiljeram, čeprav je to le najvzhodnejša veriga Kordiljer?  
\_\_\_\_\_
2. Kako se še imenujejo Južnoameriške Kordiljere?  
\_\_\_\_\_
3. Pri katerem vzporedniku se v notranjost najbolj razširijo Severnoameriške Kordiljere? \_\_\_\_\_  
Kako se imenuje območje tega dela Kordiljer?  
\_\_\_\_\_
4. Pri katerem vzporedniku se v notranjost najbolj razširijo Južnoameriške Kordiljere?  
\_\_\_\_\_  
Kako se imenuje območje tega dela Kordiljer?  
\_\_\_\_\_
5. Katere Kordiljere so višje?  
\_\_\_\_\_  
Navedi dokaz za to.  
\_\_\_\_\_  
\_\_\_\_\_
6. Navedi dve skupni značilnosti Kordiljer.  
a) \_\_\_\_\_  
b) \_\_\_\_\_

11. Za Srednjo Ameriko je značilen pisan mozaik prebivalstva. Na črti ob vsaki skupini prebivalstva zapiši, potomci katerih staršev so.

1. mestici: \_\_\_\_\_
2. kreoli: \_\_\_\_\_
3. mulati: \_\_\_\_\_