

Dragi učenci. Lepo pozdravljeni v novem, že 6. tednu.

V prejšnjem tednu smo zaključili s spoznavanjem Latinske Amerike in s tem tudi Amerike kot geografske celote.

Nekateri ste se zelo potrudili in s preverjanjem dokazali in pokazali dobro znanje, nekateri malo manj. Od nekaterih nisem še dobila odziva, ga pa pričakujem, da podam povratno informacijo.

V tem tednu boste nadaljevali s spoznavanjem najmanjše celine na svetu.

Za delo boste potrebovali učbenik, atlas, PP projekcijo in **nemo karto – izpolnjeno pošljite do 24. 4. 2020.**

Vaje za ponovitev učne snovi boste našli na spletni strani naše šole pod rubriko GRADIVA – klik na INTERAKTIVNE VAJE – GEOGRAFIJA – AVSTRALIJA.

Na naslednjih prosojnicah vas čakata **dva rebusa**. Rešitev se pojavi na naslednji prosojnici v obliki slikovnega gradiva.

**Nato sledite navodilom.**



1 2 3

1 2 3 4  
2 + 4 = U

REŠITEV : \_ \_ \_ \_ \_



Verjamem, da ste  
rebus uspešno  
rešili.

V učbeniku na str. 35 preberite rubriko  
Ali veš: [Od kod izvira ime kenguru.](#)



Tudi ta ni pretežak, kajne.



**1 2 A 3 4**

**4 = A**

**REŠITEV:**

[Oglejte si sliko koale še v učbeniku na str. 34.](#)

<https://www.youtube.com/watch?v=AIC8p3hXphc> – na tej povezavi si oglejte filmček o žejnih koalah v času požarov, ki so lani, več mesecev, pustošili po Avstraliji. Poginile so tudi številne koale.




Emu, najbolj znan predstavnik avstralskih ptičev, je poleg kenguruja upodobljen na avstralskem grbu.



Kljunaš - še ena tipična avstralska žival. Večino časa preživi v vodi.






Najznačilnejše  
avstralsko drevo je  
**evkalipt.**

Oglejte si sliko še v  
učbeniku na str. 34.



V zvezek zapišite naslov: **AVSTRALIJA**

Čigava kolonija je bila Avstralija? Po čem to lahko sklepamo?

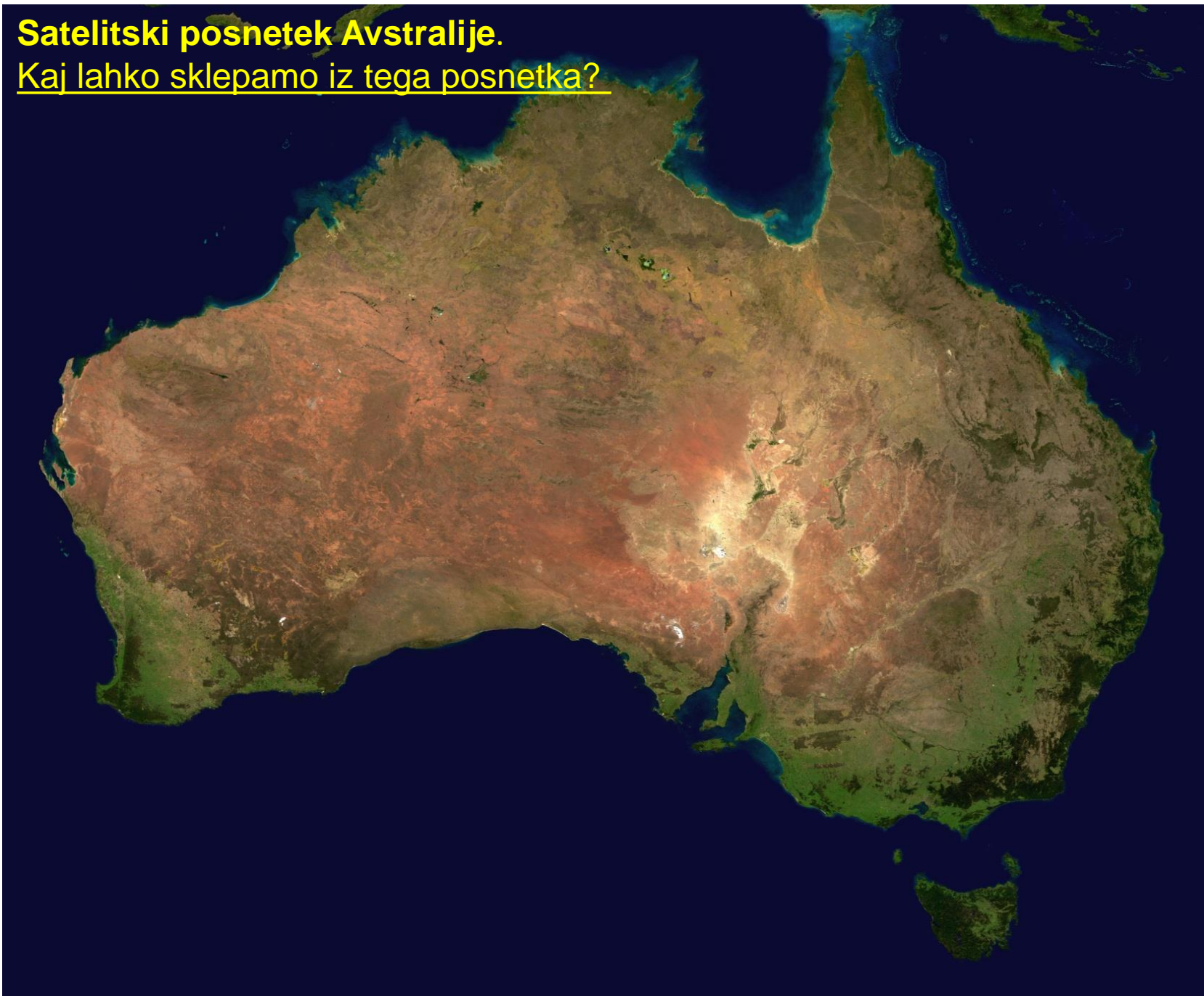


Slika prikazuje osrednji del glavnega mesta Avstralije – Canberra.  
Poiščite ga na zemljevidu na str. 161.



**Satelitski posnetek Avstralije.**

Kaj lahko sklepamo iz tega posnetka?



# 1. Geografska lega: \_\_\_ g. š., \_\_\_ g. d., toplotna pasova \_\_\_

Napišite manjkajoče podatke.




2. Poimenovanje celine - Terra Australis , pomeni neznana južna dežela. Od tod ime celine.



### 3. Naseljevanje in odkrivanje celine

- V 16.stol. so do severne obale najprej pripluli Španci in Portugalci.
- V 17.stol. so obalo prvi raziskali Nizozemci in jo poimenovali Nova Holandija.
- V 18.stol. so jo osvojili Angleži in leta 1788 ustanovili prvo kolonijo Port Jackson, na ozemlju današnjega Sydneya.
- Veliko priseljencev je prišlo v času “zlate mrzlice” sredi 19.stol.
- Največja ovira je bil Veliki koralni greben na SV celine.

Poiščite ga na zemljevidu in si oglejte sliko v učbeniku na str. 35. Označite ga na NK.





<http://url.sio.si/pj2> - oglejte si polet čez koralni greben , ki ga ogrožajo strupene morske zvezde.

Sydney – največje avstralsko mesto. Oglejte si še sliko v učbeniku na str. 40.

Gotovo poznate znamenito operno hišo z razvejano streho, ki spominja na jadra.





#### 4. Naravne enote – na NK naredite legendo in ustrezno pobarvajte naravne enote.

1. Avstralske Kordiljere ali Veliko razvodno gorovje.

Poiščite najvišji vrh in ga vpišite na NK.

2. Srednjeavstralsko nižavje ob slanem Eyrovem jezeru, ob rekah Murray in Darling.

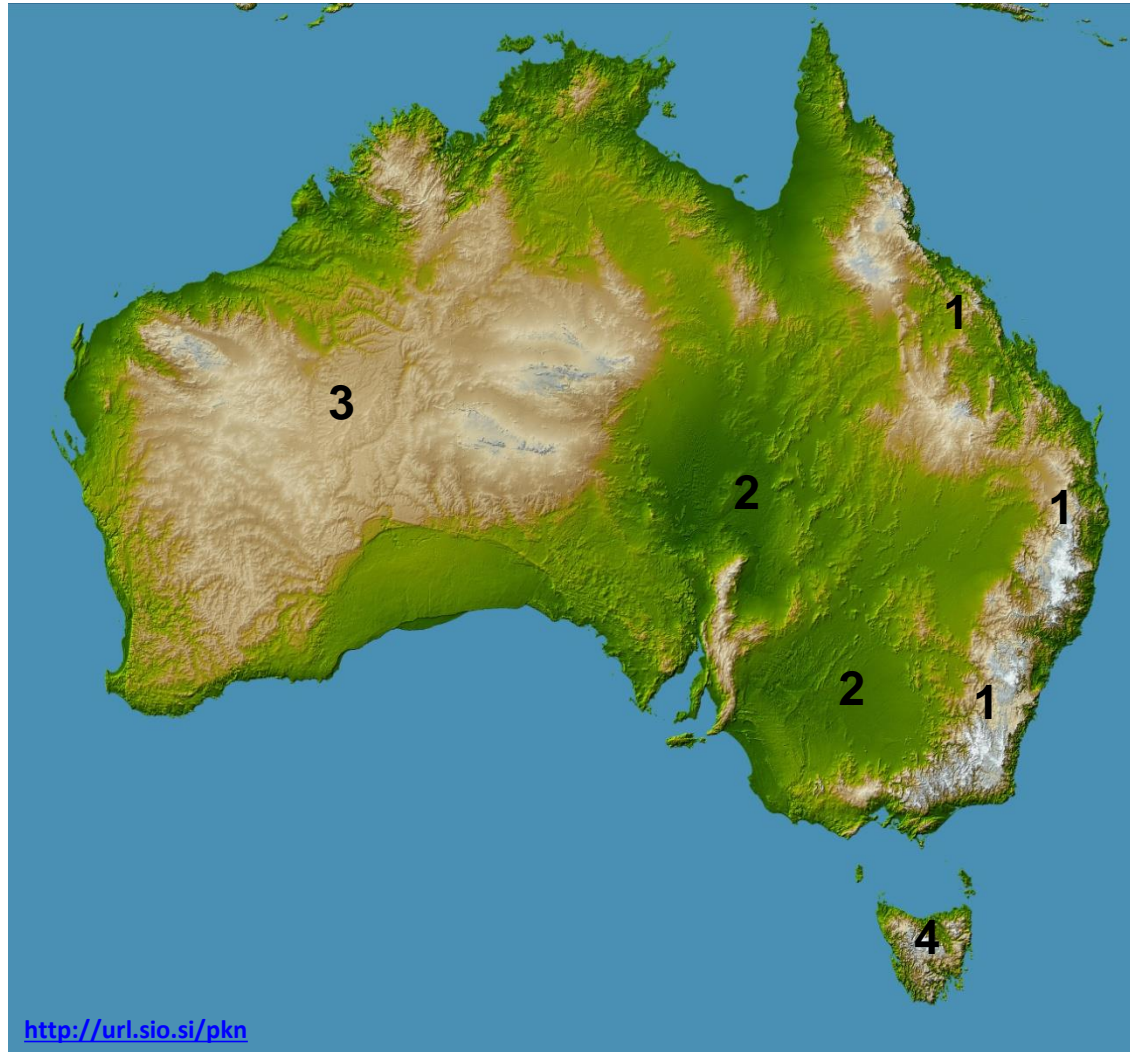
Jezero in reki označite na NK.

3. Avstralska planota z osamelcem Ayers Rock ali Uluru.

Osamelec označite na NK.

4. Otok Tasmanija.

Označite ga na NK.



# Veliko razvodno gorovje





Reki Murray in Darling



# Urulu ali Ayers Rock



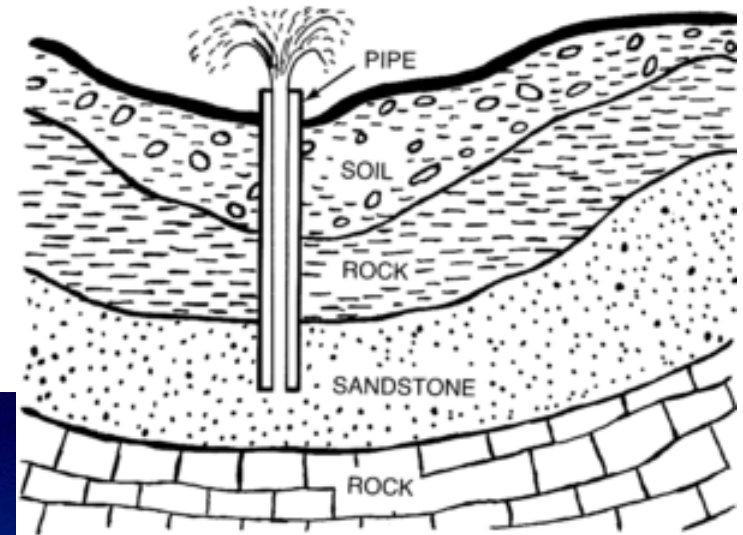
*....potovanje po Australiji*

## 5. Za to območje so značilni arteški vodnjaki.

V učbeniku na str. 37 preberite, kako deluje.

Kaj je ljudi prisililo, da so začeli uporabljati podtalnico?

Če sami ne ugotovite, odgovor poiščite v učbeniku na str. 37.





~~1~~ 2 3 4 5

1 2 3 ~~4~~ ~~5~~ ~~6~~ ~~7~~  
O=I

1 2 3 4  
A=N

1 2 3  
R=J



Rešite še ta rebus.

6. Avstralija je razdeljena na šest upravnih enot ali teritorijev in glavno mesto Canberra.

V atlasu na str. 161 poiščite teritorije  
in jih označite na NK.

Poiščite vaje za ponovitev na spletni strani šole pod rubriko GRADIVA – klik na INTERAKTIVNE VAJE – GEOGRAFIJA – AVSTRALIJA.

Veliko uspeha vam želim.

