

ZNAČINOSTI ALPSKIH POKRAJIN (U str. 91-97)

Dragi učenci. Tudi za ta učni list velja, da ga natisnete ali pa ga prepisete v zvezek. S tem učnim listom smo zaključili obravnavo Alpskih pokrajin. Vse kraje, doline, jezera, vrhove, reke ..., ki so omenjeni v učbeniku, poiščite tudi na šolski karti in ponovite enote Alpske in Predalpske Slovenije. Preberite vse podlistke in si oglejte vse slike in skice v učbeniku. Rešen učni list pošljite svoji učiteljici v vpogled do petka, 3. 4. 2020.

Bodite zdravi in veliko uspeha pri delu.

Učiteljici Magda in Simona

1. Oblike površja v visokogorju





Katera kamnina prevladuje v Alpah? _____

Že v dinarskokraških pokrajinah smo spoznali, da z raztapljanjem apnenca nastajajo kraški pojavi. Podobno se dogaja tudi v Alpskih pokrajinah. Posebna oblika krasa, ki nastaja v visokogorju imenujemo **VISOKOGORSKI KRAS**. V Alpskih pokrajinah se menjujejo strma pobočja, ostri vrhovi in **PODI** (krške uravnave). Najbolj znani so Kaninski in Triglavski podi.




a) Kraške oblike

Poimenuj kraške oblike na sliki/skici. V pomoč so ti spodaj navedeni pojmi. Opiši njihov nastanek.

brezno, žlebiči, kotlički, škraplje, podi

	Ime: _____ Opis: _____		Ime: _____ Opis: _____
	Ime: _____ Opis: _____		Ime: _____ Opis: _____


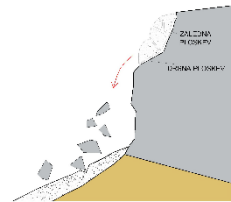
b) Ledeniške oblike. V času ledene dobe so ledeniki močno preoblikovali Alpske pokrajine. *morena, koritaste doline, ledeniška jezera*

	Ime: _____ Naštej najbolj znane ledeniške doline v Alpskih pokrajinah.
	Ime: _____ Naštej najbolj znana jezera ledeniška oz. ledeniško kraškega nastanka.
	Ime: _____ Opis: _____ Katera ostanka nekdanjih ledenikov najdemo v Alpskih pokrajinah?

c) **Rečne oblike.** Tudi reke so med ledenimi dobami preoblikovale alpsko površje. Poimenuje dve obliki značilni za Alpske pokrajine.

	<p>Ime: _____</p> <p>Opis:</p>		<p>Ime: _____</p> <p>Opis:</p>
--	--------------------------------	--	--------------------------------

c) **Druge oblike.** Zaradi golega skalnatega površja je ravno v Alpskih pokrajinah najbolj izrazito mehanično preperevanje. Poimenuj obliki, ki nastaneta z mehaničnim preperevanjem.

	<p>Ime: _____</p>		<p>Ime: _____</p>
--	-------------------	--	-------------------

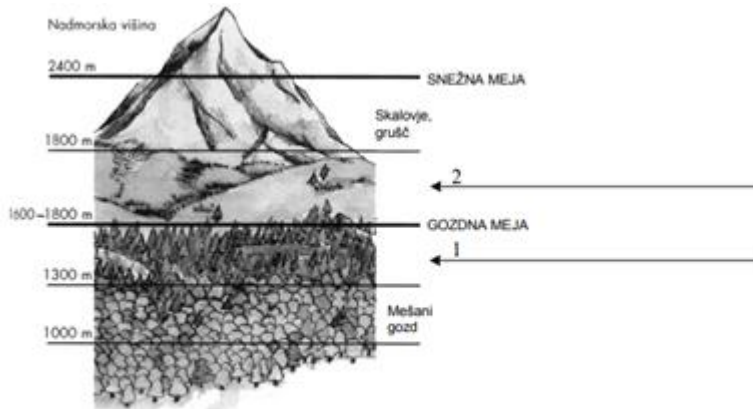
2. Podnebje

Poimenuj podnebje značilno za Alpske pokrajine: _____

Klimogram Kredarice si opisal že prejšnji teden. Zapiši splošne značilnosti podnebja.

3. Rastlinski višinski pasovi

Slika prikazuje rastlinske pasove v Alpskih pokrajinah. Na črti vpiši rastlinska pasova.



Zakaj je na osojnih pobočjih gozdna meja nižja kot na prisojnih?

Vir: Košak, M., Janša - Zorn, O., Umek, M., 1996. Tu sem doma 2: Naravne enote Slovenije. Spoznavanje družbe za 5 razred osnovne šole. Ljubljana, Modrijan, str. 13

4. Poselitev

Obkroži trditve, ki veljajo za poselitev v Alpskih pokrajinah.

- redka poselitev gosta poselitev prevladujejo gručasta naselja na dnu dolin prevladuje mlado prebivalstvo
- povečalo se je število počitniških hiš pozimi se na planine preselijo planšarji

5. Tradicionalna kmetijska dejavnost



Kako se imenujejo planinski pašniki, kjer se poleti pase živina?

Kako se imenuje tradicionalna dejavnost, ki se odvija na planinskih pašnikih v povezavi z živinorejo?

Kakšne so razmere za to tradicionalno dejavnost danes?

6. Promet in turizem

a) Promet

Kateri sta najpomembnejši industrijski središči v Alpskih pokrajinah?

Kateri je najbolj znan cestni prelaz v Julijskih Alpah? Kdo in kdaj je gradil omenjen prelaz (**spomni se zgodovine- Ruska kapelica!**)?

Naštej mejne gorske prelaze z Avstrijo in poimenuj najpomembnejšo cestno povezavo z Avstrijo, ki poteka skozi predor.

b) Turizem

Katere so najpomembnejše turistične panoge, ki se odvijajo v Alpskih pokrajinah?

Naštej najbolj znana smučarska središča v Alpskih pokrajinah.

S kakšnimi težavami se srečujejo poleti v najbolj znanih turističnih naseljih(Bovec, Bled, Bohinj, Kranjska Gora)?

7. Varstvo narave in kulturne dediščine

O Triglavskem narodnem parku (TNP) smo se že pogovarjali (U str. 84). V obliki miselnega vzorca izpiši najpomembnejše značilnosti (obseg, funkcijo, pomen, naloge, težave, omejitve, slabosti, prednosti) Triglavskega narodnega parka. Pomagaj si s spletom.