

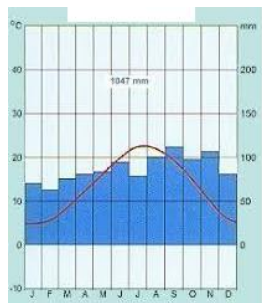
## UČNI LIST: PODNEBJE (učbenik str. 93, 99, 121, 130)

Oglej si klimograme. S pomočjo učbenika določi kateri kraj prikazuje, kateremu tipu podnebja pripada posamezni klimogram in določi za katero naravnogeografsko enoto je značilno tako podnebje. Nato klimogram še opiši. **Rešen učni list pošlji učiteljici na elektronski naslov: Učiteljica Magda: [magda.telic@guest.arnes.si](mailto:magda.telic@guest.arnes.si)**

Učiteljica Simona: [simona.levrec@guest.arnes.si](mailto:simona.levrec@guest.arnes.si)

### Klimogram A

Kraj: \_\_\_\_\_



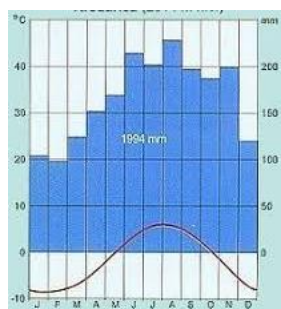
Tip podnebja: \_\_\_\_\_

Naravnogeografska enota: \_\_\_\_\_

Opiši značilnosti podnebja:

### Klimogram B

Kraj: \_\_\_\_\_



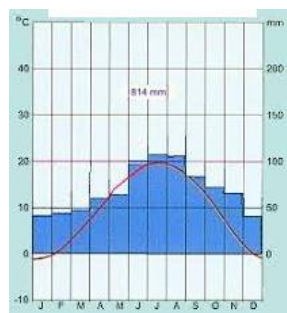
Tip podnebja: \_\_\_\_\_

Naravnogeografska enota: \_\_\_\_\_

Opiši značilnosti podnebja:

### Klimogram C

Kraj: \_\_\_\_\_



Tip podnebja: \_\_\_\_\_

Naravnogeografska enota: \_\_\_\_\_

Opiši značilnosti podnebja:

Primerjaj klimograme in zapiši razlike med povprečnimi temperaturami in letnimi količinami padavin ter njihovo razporeditvijo.

Pojasni, zaradi katerih podnebnih dejavnikov se značilnosti podnebja med kraji razlikujejo.