

KOTI VEČKOTNIKA

Pri reševanju si pomagaj z učbenikom od str. 145 naprej ali z i-učbenikom str. 265 – 272/540

<https://eucbeniki.sio.si/mat8/822/index.html>.

Spodnje večkotnike **poimenuj**.

Kote v trikotniku in štirikotniku že poznaš. Trikotniku in štirikotniku nariši notranje in zunanje kote.

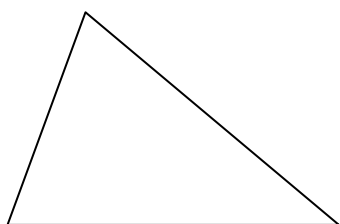
V tabelo zapiši vsoto notranjih in vsoto zunanjih kotov obeh likov (trikotnika in štirikotnika).

Nato štirikotniku in preostalim večkotnikom nariši vse **diagonale iz enega oglišča**.

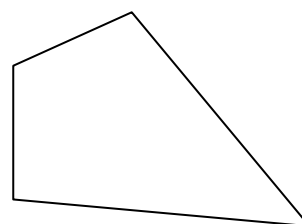
Na katere like si s tem razdelil večkotnike? _____

Uporabi njegove lastnosti in do konca izpolni tabelo.

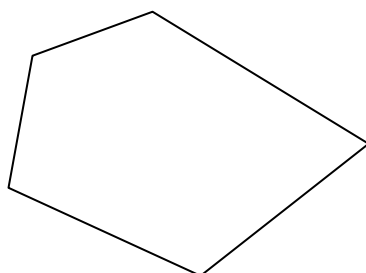
Ime: _____



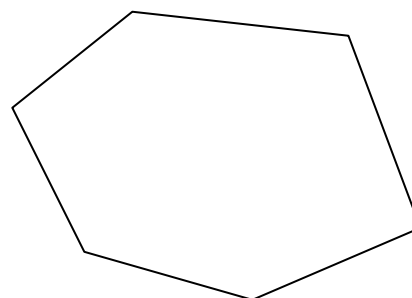
Ime: _____



Ime: _____



Ime: _____



Ime: ***n*-kotnik**



ime lika					n-kotnik
število oglišč (n)					
št. dobljenih trikotnikov					
vsota notranjih kotov					
vsota zunanjih kotov					



Obrazec za VSOTO NOTRANJIH KOTOV n -kotnika:

VSOTA ZUNANJIH KOTOV n -kotnika:

- Reši naloge v učbeniku: str. 150 / 2ač, 3 (1. del), 7, 8, 9a, 10

NE POZABI!

Svoje opravljeno delo **slikaj** in **pošlji** učiteljici matematike **do petka, 27. 3. 2020.**

Želimo ti uspešno delo 😊.