

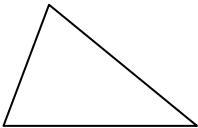
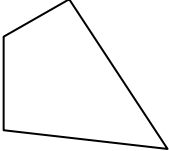
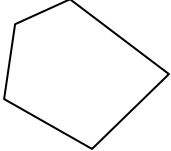
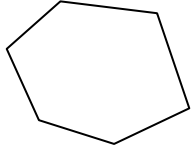

DIAGONALE VEČKOTNIKA

Pri reševanju si pomagaj z učbenikom od str. 145 naprej ali z i-učbenikom str. 265 – 272/540

<https://eucbeniki.sio.si/mat8/822/index.html>.

Vsak večkotnik najprej poimenuj in ustrezno označi.

Nato napiši število oglišč (n), število diagonal iz enega oglišča (d_1) in število vseh diagonal (d). Pomagaj si z risanjem.

					
ime lika					n-kotnik
število stranic (n)					
št. diagonal iz enega oglišča					
št. vseh diagonal					



Obrazec za število diagonal **iz enega oglišča** n-kotnika:

Obrazec za število **vseh** diagonal n-kotnika:

- Reši naloge v učbeniku: str. 147 / 3ac, 4ac, 5ac, 6, 9

NE POZABI!

Svoje opravljeno delo **slikaj** in **pošlji** učiteljici matematike **do petka, 27. 3. 2020.**

Želimo ti uspešno delo 😊.